



CONCURSO PÚBLICO
PREFEITURA MUNICIPAL DE ÁGUA DOCE
EDITAL Nº 015/2014

**CADERNO DE PROVA
TÉCNICO ESPORTIVO
(INSTRUTOR DE JUDÔ)**

**LEIA COM ATENÇÃO AS
ORIENTAÇÕES ABAIXO:**

- Você recebeu do fiscal de sala o material: caderno de prova e cartão-resposta.
- A prova terá duração de 3 (três) horas incluindo o tempo de preenchimento do CARTÃO-RESPOSTA.
- O prazo mínimo de permanência em sala é de 1 (uma) hora.
- Autorizado o início da prova, verifique se este caderno contém questões objetivas de língua portuguesa, matemática, conhecimentos gerais/legislação e conhecimentos específicos conforme edital. Verifique se o material está em ordem e se o seu nome, CPF, número de inscrição e cargo conferem com os que aparecem no CARTÃO-RESPOSTA. Caso contrário comunique imediatamente o fiscal.
- Todas as questões da prova são de múltipla escolha. Para cada uma das questões objetivas, são apresentadas quatro alternativas (A, B, C ou D) e somente uma corresponde à alternativa correta. Assinale **UMA RESPOSTA**: a marcação em mais de uma alternativa anula a questão, mesmo que uma das respostas esteja correta.
- No CARTÃO-RESPOSTA, a marcação das letras que correspondem às respostas corretas deve ser realizada com caneta esferográfica de tinta preta ou azul, de forma contínua e densa cobrindo todo o espaço compreendido pelos círculos. A Leitora Óptica é sensível a marcas escuras, portanto preencha os campos de marcação completamente. Exemplo:
- **CUIDADO COM O CARTÃO-RESPOSTA**: não risque, não amasse, não dobre, não suje, não molhe, pois ele é insubstituível.
- **SERÁ ELIMINADO DO CONCURSO PÚBLICO** o candidato que:

- a) durante a realização da prova utilizar, relógio, telefone celular, qualquer tipo de equipamento eletrônico ou fontes de consultas de qualquer espécie;
 - b) se ausentar da sala de prova levando consigo o CADERNO DE PROVA e/ou o CARTÃO-RESPOSTA;
 - c) se recusar a entregar o CADERNO DE PROVA e/ou CARTÃO-RESPOSTA, quando terminar o tempo estabelecido;
 - d) manter ou tentar manter qualquer tipo de comunicação com outros candidatos.
- Os fiscais não estarão autorizados a emitir opinião, nem prestar esclarecimentos sobre o conteúdo das provas. Cabe, exclusivamente, ao candidato interpretar o enunciado da questão e decidir a resposta.
 - Ao terminar a prova, entregue ao fiscal de sala o CADERNO DE PROVA E O CARTÃO-RESPOSTA. É permitido levar apenas o rascunho do gabarito que encontra-se na última página do caderno de prova.
 - Após a realização da prova o candidato deverá imediatamente sair das instalações físicas do local da prova.
 - Os últimos três candidatos deverão entregar simultaneamente o cartão resposta e o caderno de provas, em seguida assinarão juntamente com os fiscais de sala e um membro da Comissão de Acompanhamento do Concurso Público, o lacre dos envelopes, o verso de todos os cartões-respostas, a lista de presença e a Ata, na qual constará as ocorrências relativas à prova.
 - Na hipótese de ocorrer anulação de questões, estas serão consideradas como respondidas corretamente por todos os candidatos.
 - O gabarito da prova estará disponível em 11/01/2015, a partir das 17h, na página da Prefeitura Municipal de Água Doce/SC (www.aguadoce.sc.gov.br) e na página da Unoesc (www.unoesc.edu.br).



LÍNGUA PORTUGUESA

QUESTÃO 1

Assinale a alternativa em que há palavras COM ERRO de grafia:

- (A) Exceção – submissão – concessão – sessenta
- (B) Cresça – trouxe – acessível – pretensão
- (C) Excelência – tenso – ansioso – expressão
- (D) Excesso – fascinante – suscetibilidade – essencial

QUESTÃO 2

Assinale a alternativa em que todas as palavras estão grafadas corretamente:

- (A) Desperdiçar – magoar – enclinar – disenteria
- (B) Homologar – mochila – seringa – lampião
- (C) Displicência – Invólocro – destilar – desonra
- (D) Intitular – reabilitar – hortênsia – Arripiar

QUESTÃO 3

Assinale a alternativa ERRADA quanto ao uso da crase:

- (A) Assisti às aulas preparatórias para a prova.
- (B) Refiro-me àquele episódio.
- (C) O avião aterrissou às 9 horas em ponto.
- (D) Não assisto à programas violentos.

QUESTÃO 4

Este é o setor financeiro da prefeitura do qual você também fará parte.

O trecho em destaque pode ser substituído corretamente por:

- (A) de que você também fará parte.
- (B) no qual você também fará parte.
- (C) onde você também fará parte.
- (D) o qual você também fará parte.

QUESTÃO 5

A camisa de seda custou o quádruplo.
A palavra em destaque é um numeral:

- (A) cardinal.
- (B) fracionário.
- (C) multiplicativo.
- (D) ordinal.

QUESTÃO 6

Assinale a assertiva que contém uma oração coordenada sindética aditiva:

- (A) Ela fala pouco, mas trabalha muito.
- (B) Tenho várias dificuldades, mas tento superá-las sempre.
- (C) Ele não só estuda, mas também trabalha.
- (D) João sempre chega atrasado, mas sempre termina o trabalho.

QUESTÃO 7

Assinale a alternativa correta quanto à colocação dos pronomes oblíquos átonos.

- (A) Há recepcionistas que atendem-nos bem.
- (B) Todos correram na tentativa de salvá-lo.
- (C) Sempre lembro-me de marcar o ponto.
- (D) Ninguém importa-se com você.

QUESTÃO 8

Assinale a alternativa em que o verbo cantar está na 1ª pessoa do plural do pretérito imperfeito do indicativo:

- (A) Nós cantávamos durante uma hora por semana.
- (B) Eu cantava durante uma hora por semana.
- (C) Nós cantaríamos durante uma hora por semana.
- (D) Eu cantaria durante uma hora por semana.

QUESTÃO 9

Assinale a frase correta de acordo com a norma padrão:

- (A) Este é o lanche para mim comer?
- (B) O professor começou a aula cumprimentando a todos.
- (C) Ele gosta de músicas onde a letra é romântica.
- (D) Não houve classificados para a segunda fase.

QUESTÃO 10

O adjunto adverbial sublinhado em “Ela fez tudo de-
pressa” é de:

- (A) Modo
- (B) Tempo
- (C) Causa
- (D) Meio

MATEMÁTICA**QUESTÃO 11**

Determinado produto custava R\$ 120,00, o qual sofreu dois aumentos consecutivos: o primeiro foi de 5% e, na sequência, de 15%, passando a custar R\$ 144,90. Se o preço sofresse um único aumento, equivalente aos aumentos de 5% e 15%, qual seria a taxa percentual utilizada?

- (A) 10%.
- (B) 20%
- (C) 20,75%
- (D) 25%.

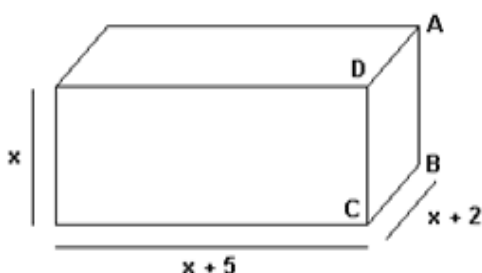
QUESTÃO 12

Uma gaveta possui 5 meias brancas e 3 meias pretas. Determine a probabilidade de se retirar ao acaso, em sequência, e sem reposição duas meias brancas.

- (A) $5/14$.
- (B) $25/56$.
- (C) $3/5$.
- (D) $5/3$.

QUESTÃO 13

Determine o valor de x no paralelepípedo retângulo abaixo de modo que o seu volume seja igual a 120 cm^3 .



- (A) 2 cm.
- (B) 3 cm.
- (C) 4 cm.
- (D) 5 cm.

QUESTÃO 14

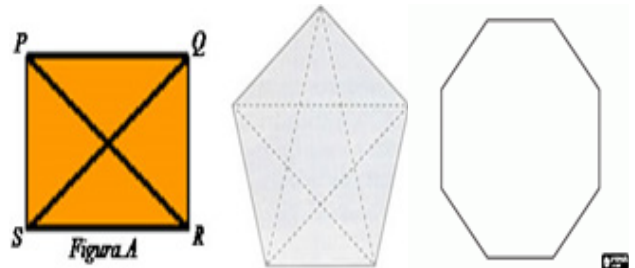
Um anagrama (do grego ana = “voltar” ou “repetir” + graphein = “escrever”) é uma espécie de jogo de palavras, resultando do rearranjo das letras de uma palavra ou frase para produzir outras palavras, utilizando todas as letras originais exatamente uma vez. Por exemplo, alguns anagramas da palavra PATO seriam: PTOA, TOPA, POTa, OPAT, e assim por diante, em um total de 24 anagramas distintos.

Dessa forma, o total de anagramas da palavra Castelo é igual a:

- (A) 7.
- (B) 42.
- (C) 120.
- (D) 5040.

QUESTÃO 15

Para obtermos as diagonais de um polígono, devemos unir dois vértices não consecutivos, de forma a formar um segmento, conforme figuras a seguir:



Então, o número de diagonais da figura em branco é igual a:

- (A) 8.
- (B) 12.
- (C) 20.
- (D) 40.

QUESTÃO 16

O gráfico a seguir representa, em porcentagem, as preferências esportivas em um grupo de 420 funcionários de uma empresa de São Paulo.

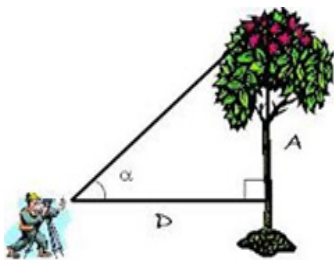


Qual é a razão entre o número de pessoas que preferem vôlei em relação ao número de pessoas que preferem natação?

- (A) $1/3$.
- (B) $2/4$.
- (C) $3/1$.
- (D) $2/5$.

QUESTÃO 17

Um homem de 1,80 m encontra-se a 2,5 m de distância de uma árvore, conforme ilustração a seguir. Sabendo-se que o ângulo α é de 42° , determine a altura dessa árvore.



Use:
 Seno $42^\circ = 0,669$
 Cosseno $42^\circ = 0,743$
 Tangente de $42^\circ = 0,90$

Fonte: trigolen.blogspot.

- (A) 2,50 m.
- (B) 3,47 m.
- (C) 3,65 m.
- (D) 4,05 m.

QUESTÃO 18

Resolva as equações exponenciais a seguir adequadamente e, em seguida, resolva a expressão numérica $a - b^2 + c$.

- a) $2x = 32$
- b) $3x = 1/27$
- c) $4x = \sqrt[3]{64}$

O resultado dessa expressão numérica é:

- (A) $-5/2$.
- (B) $7/2$.
- (C) $31/2$.
- (D) $-25/2$.

QUESTÃO 19

O símbolo dos Jogos Olímpicos é composto por cinco anéis entrelaçados, com as cores azul, amarelo, preto, verde e vermelho, sobre um fundo branco. As cores utilizadas nos cinco anéis da bandeira foram escolhidas e representadas por Coubertin, em razão da frequência em que aparecem nas bandeiras das diversas nações no mundo. Pelo menos uma das demais cores está presente em cada bandeira, dessa forma, além de simbolizar a união dos cinco continentes, integra todos os países, fornecendo um sentido universal para as Olimpíadas. Observe os anéis olímpicos a seguir:



Fonte: super.abril.com.br

Um painel será montado para a abertura dos Jogos Olímpicos. Determine o tamanho da circunferência de cada um desses anéis, sabendo-se que o diâmetro de cada anel é de 30 cm. Use $\pi = 3,14$.

- (A) 94,2 cm².
- (B) 188,4 cm².
- (C) 471 cm².
- (D) 942 cm².

QUESTÃO 20

Três amigos foram ao supermercado comprar sabonetes e cremes de dente. Ricardo pagou R\$ 4,90 por 2 sabonetes e 3 cremes dentais; enquanto Carlos gastou R\$ 3,10 por 1 sabonete e 2 cremes dentais. Assim, quanto Rodrigo gastará na compra de 5 sabonetes e 4 cremes dentais?

- (A) R\$ 6,80.
- (B) R\$ 7,70.
- (C) R\$ 8,50.
- (D) R\$ 9,10.

LEGISLAÇÃO/ CONHECIMENTOS GERAIS

QUESTÃO 21

Segundo a Constituição Federal, é correto afirmar que é preciso do Município:

- (A) eleição do Prefeito, do Vice-Prefeito e dos Vereadores, para mandato de quatro anos, mediante pleito direto e simultâneo realizado em todo o País, sendo permitida uma reeleição.
- (B) eleição do Prefeito, do Vice-Prefeito e dos Vereadores, para mandato de cinco anos, mediante pleito direto e simultâneo realizado em todo o País, sendo permitida uma reeleição.
- (C) eleição do Prefeito, do Vice-Prefeito e dos Vereadores, para mandato de quatro anos, mediante pleito direto e simultâneo realizado em todo o País, não sendo permitida uma reeleição.
- (D) eleição do Prefeito, do Vice-Prefeito e dos Vereadores, para mandato de quatro anos, mediante pleito direto e simultâneo realizado em todo o País, sendo permitida a reeleição a cada nova eleição, até o limite de três mandatos.

QUESTÃO 22

Conforme o Estatuto do Servidor Público de Água Doce, NÃO é forma de provimento do cargo público a:

- (A) nomeação.
- (B) reversão.
- (C) reintegração.
- (D) remoção.

QUESTÃO 23

Na Constituição Federal NÃO está previsto como de competência do Município o seguinte tributo:

- (A) Imposto sobre propriedade predial e territorial urbana.
- (B) Imposto sobre transmissão "inter vivos", a qualquer título, por ato oneroso, de bens imóveis, por natureza ou acessão física, e de direitos reais sobre imóveis, exceto os de garantia, bem como cessão de direitos a sua aquisição.

- (C) Imposto sobre propriedade de veículos automotores.
- (D) Imposto sobre serviços de qualquer natureza.

QUESTÃO 24

O Estatuto da Cidade prevê como instrumento da política urbana, em geral, o planejamento municipal, este integrado especialmente, entre outros, pelo(a):

- (A) código florestal.
- (B) zoneamento ambiental.
- (C) contribuição de melhoria.
- (D) desapropriação.

QUESTÃO 25

A Lei de Responsabilidade Fiscal prevê como limite para despesas totais com pessoal no Município:

- (A) 50% da receita corrente líquida.
- (B) 60% da receita corrente líquida.
- (C) 65% da receita corrente líquida.
- (D) 60% da receita corrente bruta.

QUESTÃO 26

Segundo a Lei Orgânica de Água Doce, será objeto de Lei complementar, EXCETO:

- (A) Plano Diretor.
- (B) Regime Jurídico dos Servidores.
- (C) Código de Posturas.
- (D) Orçamento Anual.

QUESTÃO 27

Conforme a Lei Orgânica de Água Doce, compete ao Município organizar e prestar, diretamente ou sob regime de concessão ou permissão, entre outros, o serviço:

- (A) cemitérios e serviços funerários.
- (B) rádio difusão.
- (C) transporte intermunicipal.
- (D) de saúde de todos os níveis.

QUESTÃO 28

Segundo a Lei Orgânica de Água Doce, cabe à Câmara Municipal, com a sanção do Prefeito, legislar sobre:

- (A) eleição do presidente da Câmara.
- (B) alteração da Lei Orgânica.
- (C) delimitação do perímetro urbano.
- (D) processar e julgar os Vereadores.

QUESTÃO 29

No Estatuto do Servido Público de Água Doce está previsto que cabe ao servidor, além do vencimento, o recebimento das seguintes vantagens:

- (A) indenizações, adicionais e folgas remuneradas.
- (B) gratificações, adicionais e décimo quarto.
- (C) indenizações, gratificações e adicionais.
- (D) indenizações, gratificações e férias.

QUESTÃO 30

Assinale a alternativa correta, de acordo com o Estatuto do Servido Público de Água Doce:

- (A) Poderá ser concedida licença ao servidor para acompanhar cônjuge ou companheiro que foi deslocado para outro ponto do território nacional, para o exterior ou para exercer mandato eletivo dos Poderes Executivo e Legislativo. A licença será por prazo indeterminado e sem remuneração.
- (B) Poderá ser concedida licença ao servidor para acompanhar cônjuge ou companheiro que foi deslocado para outro ponto do território nacional, para o exterior ou para exercer mandato eletivo dos Poderes Executivo e Legislativo. A licença será por prazo de dois anos, renováveis uma vez, e sem remuneração.
- (C) Poderá ser concedida licença ao servidor para acompanhar cônjuge ou companheiro que foi deslocado para outro ponto do território nacional, para o exterior ou para exercer mandato eletivo dos Poderes Executivo e Legislativo. A licença será por prazo indeterminado e com remuneração.
- (D) Poderá ser concedida licença ao servidor para acompanhar cônjuge ou companheiro que foi deslocado para outro ponto do território nacional, para o exterior ou para exercer mandato eletivo dos Poderes Executivo e Legislativo. A licença será por prazo de um ano e com remuneração.

CONHECIMENTOS ESPECÍFICOS

QUESTÃO 31

Segundo historiadores, o Judô nasceu no Japão, foi criado por Jigoro Kano, no final do século XIX. Porém, conta a história que a prática do Judô feminino foi marcada pelo preconceito e que demorou a ser reconhecido pela sociedade. Somente na década de 1920 o Instituto Kodokan abriu aulas de Judô Feminino, iniciando a sua divulgação. Observe as assertivas sobre a história do Judô feminino:

- I. No início da sua prática, durante um longo período, o Judô feminino ficou restrito somente ao Kata.
- II. A primeira edição do Campeonato Mundial de Judô Feminino aconteceu em Nova York, em 1980.
- III. O Judô feminino foi incluído nos Jogos olímpicos somente em 1996.
- IV. As judocas brasileiras possuem um total de cinco medalhas de ouro Olímpicas conquistadas.

É correto apenas o que se afirma em:

- (A) I, II e III.
- (B) I, III e IV.
- (C) II e III.
- (D) I e II.

QUESTÃO 32

No Judô, são três os grupos de técnicas de rolamento ou amortecimento que compõem um programa de iniciação: para trás, lateral e por cima dos ombros. No rolamento por cima dos ombros, partindo da posição agachado, técnicas corretas de execução serão:

- I. Pernas em afastamento lateral, com a direita um pouco à frente da esquerda.
- II. Palma da mão esquerda apoiada no tatame, à frente da perna direita.
- III. Braço direito em forma de arco, apoiado pelo dedo mínimo entre o braço esquerdo e a perna direita, com a mão voltada para trás.
- IV. Cabeça virada para o lado direito por cima do ombro.

É correto apenas o que se afirma em:

- (A) I e III.
- (B) I, III e IV.
- (C) II e III.

(D) I, II e III.

QUESTÃO 33

Koka, Yuko, Waza-Ari e Ippon correspondem às pontuações específicas em um combate de Judô. Elas podem ser obtidas com um golpe ou em decorrência de faltas. Assinale V para as alternativas verdadeiras e F para as falsas sobre as pontuações.

() O árbitro central anunciará ippon quando, na sua opinião, um dos competidores imobilizar com Ossae-Komi seu oponente, o qual, durante 20 segundos posterior ao anúncio do Ossae-Komi, não consegue se livrar do golpe.

() O árbitro central anunciará Waza-ari quando, na sua opinião, um dos competidores, com controle, projeta seu oponente e a técnica carecer, parcialmente, de um dos três elementos necessários para o Ippon (nitidamente sobre as costas, força e velocidade).

() O árbitro central anunciará um Yuko quando, na sua opinião, um dos competidores imobilizar com Ossae-Komi o adversário que não consegue se libertar por um período de 15 a 19 segundos.

() O árbitro central anunciará Koka quando, na sua opinião, um dos competidores projetar com controle seu oponente sobre a cabeça, sem velocidade e força.

A sequência correta das respostas é:

- (A) V, V, F, V.
- (B) F, V, F, V.
- (C) F, V, V, F.
- (D) V, F, V, F.

QUESTÃO 34

As técnicas de projeção devem ser ensinadas no judô de modo gradativo e de acordo com a evolução demonstrada durante as aulas pelos alunos. Não existe uma sequência padrão, que pode ser variada de acordo com a faixa etária e do ponto de vista do professor. Sobre as técnicas de projeção no Judô adequadas para uma iniciação, está correto afirmar que:

- (A) O-Soto-Gari é a mais indicada para ser o primeiro golpe a ser ensinado em razão de sua simples execução, independentemente da idade.
- (B) O-Goshi é a técnica mais fácil para ser ensinada, por haver uma mudança na direção do corpo e pela perda total do contato com o solo. É uma técnica

de competição.

(C) Koshi-Guruma, por ser semelhante ao O-Soto-Gari, apresenta a mesma segurança. Para as crianças mais novas, pode ser ensinada como primeiro golpe.

(D) O Uchigari é um golpe mais complexo de execução. Requer maior preocupação e pode ser usado como primeiro golpe.

QUESTÃO 35

Mais do que criar uma luta, o objetivo de Jigoro Kano era desenvolver uma arte marcial em que a evolução técnica do praticante fosse sempre acompanhada pela evolução espiritual. Transmitida no outro lado do mundo, o Judô possui princípios básicos e filosofias, por meio de milênios de história. Podemos afirmar que um dos princípios primordiais do Judô é:

- (A) Nunca ceder, sempre vencer é o caminho do campeão.
- (B) Muitas vezes, é preciso ceder para vencer, utilizando o caminho suave.
- (C) A vida é feita de escolhas, no judô, escolha vencer.
- (D) Derrubar o oponente em qualquer situação, sempre vencer.

QUESTÃO 36

O Judô utiliza-se de faixas coloridas para identificar a graduação dos alunos. Esse sistema utilizado em todo o mundo foi criado por Jigoro Kano. As graduações do judô são divididas em Kyu e Dan. Dentro dessas divisões básicas, há várias outras, indicando o grau de aprendizado de um discípulo. Assim, assinale a alternativa correta sobre as cores das faixas e a sua graduação:

- I. A faixa cinza é utilizada no 7º Kyu e é utilizada somente por crianças.
- II. O 1º e 2º Kyu são, respectivamente, referentes às cores roxa e marrom.
- III. O 9º Dan e o 10º Dan são, respectivamente, denominados Kyudan e Jodan, e utilizam-se da faixa de cor vermelha.
- IV. O 2º Dan é chamado de Nidan e utiliza a faixa Preta.

É correto apenas o que se afirma em:

- (A) I, II e III.
- (B) II e IV.

- (C) I, III e IV.
- (D) II, III e IV.

QUESTÃO 37

O participante de Judô, principalmente de rendimento, necessita estar bem preparado para conseguir apresentar um bom desempenho perante seu oponente. Para isso, necessita de treinamentos que visem tanto ao desenvolvimento técnico, tático, quanto ao físico também. Dessa forma, obterá sucesso, tendo como suporte físico a capacidade aeróbia, potência e capacidade anaeróbias, força e flexibilidade. No que diz respeito ao metabolismo energético, é correto afirmar que a produção de energia para a luta do judô provém dos sistemas:

- (A) Capacidade anaeróbia alática e aeróbia.
- (B) Sistema glicolítico e anaeróbio láctico.
- (C) Sistema aeróbio láctico e alático
- (D) Sistema glicolítico e capacidade aeróbia

QUESTÃO 38

Esse golpe foi o mais aplicado pelo judoca Rogério Sampaio no caminho do ouro Olímpico em 1992. Ele começa por uma pegada correta: uma mão na gola do adversário e outra na manga, na altura do cotovelo. O passo seguinte é empurrar o adversário, forçando-o a dar mais um passo para trás. Em seguida, o lutador avança sua perna esquerda, fazendo com que fique ao lado da perna direita do adversário. Nesse momento, a perna direita do lutador é lançada para frente e, na volta, golpeia com força a perna do adversário. Pelas características descritas no enunciado, pode-se afirmar que estamos falando de qual golpe?

- (A) Te Waza.
- (B) O Soto Gari.
- (C) Sutemi Waza.
- (D) Katame Waza.

QUESTÃO 39

No Judô, um dos componentes importantes para a luta são os componentes motores dos judocas. Os aspectos motores devem ser trabalhados pelos professores porque, quando se aplica uma gama de atividades com o objetivo de desenvolvimento motor desde as fases iniciais de aprendizagem, melhor será o desempenho no futuro. Porém, é preciso respeitar a individualidade e o nível de desenvolvimento dos

alunos. No processo de ensino do judô devem ser considerados alguns aspectos importantes no desenvolvimento motor, que são essenciais para o melhor aprendizado. Entre eles pode-se citar:

- I. A Estrutura da própria habilidade motora.
- II. A fase de desenvolvimento motor em que se encontra o aluno.
- III. A fase de aprendizagem em que se encontra o aluno.
- IV. As conquistas que se pretende atingir nas competições, independentemente do nível de desenvolvimento motor, de aprendizagem, pensando somente nas vitórias.

É correto apenas o que se afirma em:

- (A) I e II.
- (B) III e IV.
- (C) I, II e IV.
- (D) I, II e III.

QUESTÃO 40

O Judogui foi criado em 1907 por Jigoro Kano, o uniforme oficial para a prática de Judô. Ele é composto de uma calça e um casaco, que podem ser branco ou azul, e uma faixa que varia de cor de acordo com a graduação dos atletas. Para a utilização correta do Judogui, os atletas devem seguir algumas exigências. Podemos afirmar que essas exigências são:

- I. Não é permitido o uso de calças e camisas por baixo do Judogui, a não ser para as mulheres, que devem usar camisas brancas de manga curta.
- II. O Judogui deve seguir rigorosamente as especificações da Federação internacional de Judô.
- III. É permitido que o Judogui tenha rasgões e remendos.
- IV. O tecido não pode ser escorregadio a ponto de evitar ou dificultar que o oponente o segure.

É correto apenas o que se afirma em:

- (A) III e IV.
- (B) I, II e IV.
- (C) I, II e III.
- (D) I e II.