



CONCURSO PÚBLICO  
PREFEITURA MUNICIPAL DE ÁGUA DOCE  
EDITAL Nº 015/2014

## CADERNO DE PROVA MOTORISTA

LEIA COM ATENÇÃO AS  
ORIENTAÇÕES ABAIXO:

- Você recebeu do fiscal de sala o material: caderno de prova e cartão-resposta.
- A prova terá duração de 3 (três) horas incluindo o tempo de preenchimento do CARTÃO-RESPOSTA.
- O prazo mínimo de permanência em sala é de 1 (uma) hora.
- Autorizado o início da prova, verifique se este caderno contém questões objetivas de língua portuguesa, matemática, conhecimentos gerais/legislação e conhecimentos específicos conforme edital. Verifique se o material está em ordem e se o seu nome, CPF, número de inscrição e cargo conferem com os que aparecem no CARTÃO-RESPOSTA. Caso contrário comunique imediatamente o fiscal.
- Todas as questões da prova são de múltipla escolha. Para cada uma das questões objetivas, são apresentadas quatro alternativas (A, B, C ou D) e somente uma corresponde à alternativa correta. Assinale UMA RESPOSTA: a marcação em mais de uma alternativa anula a questão, mesmo que uma das respostas esteja correta.
- No CARTÃO-RESPOSTA, a marcação das letras que correspondem às respostas corretas deve ser realizada com caneta esferográfica de tinta preta ou azul, de forma contínua e densa cobrindo todo o espaço compreendido pelos círculos. A Leitora Óptica é sensível a marcas escuras, portanto preencha os campos de marcação completamente. Exemplo:
- CUIDADO COM O CARTÃO-RESPOSTA: não risque, não amasse, não dobre, não suje, não molhe, pois ele é insubstituível.
- SERÁ ELIMINADO DO CONCURSO PÚBLICO o candidato que:

- a) durante a realização da prova utilizar, relógio, telefone celular, qualquer tipo de equipamento eletrônico ou fontes de consultas de qualquer espécie;
  - b) se ausentar da sala de prova levando consigo o CADERNO DE PROVA e/ou o CARTÃO-RESPOSTA;
  - c) se recusar a entregar o CADERNO DE PROVA e/ou CARTÃO-RESPOSTA, quando terminar o tempo estabelecido;
  - d) manter ou tentar manter qualquer tipo de comunicação com outros candidatos.
- Os fiscais não estarão autorizados a emitir opinião, nem prestar esclarecimentos sobre o conteúdo das provas. Cabe, exclusivamente, ao candidato interpretar o enunciado da questão e decidir a resposta.
  - Ao terminar a prova, entregue ao fiscal de sala o CADERNO DE PROVA E O CARTÃO-RESPOSTA. É permitido levar apenas o rascunho do gabarito que encontra-se na última página do caderno de prova.
  - Após a realização da prova o candidato deverá imediatamente sair das instalações físicas do local da prova.
  - Os últimos três candidatos deverão entregar simultaneamente o cartão resposta e o caderno de provas, em seguida assinarão juntamente com os fiscais de sala e um membro da Comissão de Acompanhamento do Concurso Público, o lacre dos envelopes, o verso de todos os cartões-respostas, a lista de presença e a Ata, na qual constará as ocorrências relativas à prova.
  - Na hipótese de ocorrer anulação de questões, estas serão consideradas como respondidas corretamente por todos os candidatos.
  - O gabarito da prova estará disponível em 11/01/2015, a partir das 17h, na página da Prefeitura Municipal de Água Doce/SC ([www.aguadoce.sc.gov.br](http://www.aguadoce.sc.gov.br)) e na página da Unoesc ([www.unoesc.edu.br](http://www.unoesc.edu.br)).



## LÍNGUA PORTUGUESA

### QUESTÃO 1

Assinale a alternativa em que todas as palavras estão grafadas corretamente:

- (A) Aljema – gengiva – jeca – manjeriçãõ.
- (B) Tigela – jesto – traje – jegue.
- (C) Gibi – varejista – berinjala – cafajeste.
- (D) Monge – sugestão – geito – nojento.

### QUESTÃO 2

Assinale a alternativa em que a divisão silábica de todas as palavras está correta:

- (A) Sub-ma-ri-no, sa-guão, fa-cha-da, saí-da.
- (B) Ba-le-i-a, Pa-ra-guai, psi-có-lo-go, rit-mo.
- (C) Té-cni-co, du-e-lo, re-ple-to, quais-quer.
- (D) Di-nhei-ro, con-te-ú-do, ad-je-ti-vo, sa-ú-de.

### QUESTÃO 3

Assinale a alternativa em que o plural em todas as palavras está grafado corretamente:

- (A) Túneis – colheres – fósseis – cirurgiões
- (B) Hambúrgueres – characters – fins – adeuses
- (C) Cidadões – melões – itens – papéis
- (D) Irmãs – álcools – reféns – corrimãos

### QUESTÃO 4

Assinale a alternativa INCORRETA quanto ao uso dos porquês:

- (A) Sempre chega atrasado porque não tem despertador.
- (B) Por que ele sempre chega atrasado?
- (C) Ninguém sabe o por quê dele chegar sempre atrasado.
- (D) Você sempre chega atrasado, por quê?

### QUESTÃO 5

O gênero dos substantivos está ERRADO em:

- (A) O gengibre é usado como emagrecedor.
- (B) O hélice do helicóptero estava avariado.
- (C) Toda a cal foi utilizada.
- (D) A ladra foi pega em flagrante.

### QUESTÃO 6

Assinale o emprego INCORRETO do numeral:

- (A) Capítulo IV (quatro)
- (B) 60º (sexagésimo)
- (C) 90º (nonagésimo)
- (D) Século XIX (vinte e um)

### QUESTÃO 7

Assinale a alternativa em que todas as palavras estão acentuadas corretamente:

- (A) Vôlei – ânsia – vírus – inumeros
- (B) Esplêndido – lapis – fáceis – órgão
- (C) Pêssego – melancia – árdua – fórum
- (D) sabio – úteis – móvel – cerimônia

### QUESTÃO 8

Relacione a assertiva, na primeira coluna, com a voz adequada dos verbos, na segunda coluna.

- I. Organizou-se a competição em meia hora.
- II. O vento agitava as ondas.
- III. O menino era guiado pelo pai.
- IV. A moça suicidou-se.

- ( ) voz ativa
- ( ) voz passiva analítica
- ( ) voz passiva pronominal
- ( ) voz reflexiva

Assinale a alternativa com a ordem correta:

- (A) II, III, I, IV.
- (B) II, I, III, IV.
- (C) III, I, II, IV.
- (D) III, II, I, IV.

### QUESTÃO 9

Assinale a assertiva que contém uma oração:

- (A) Socorro!
- (B) A menina vestiu-se para a festa.
- (C) Que pessoa inconveniente!
- (D) Muito obrigada!

**QUESTÃO 10**

Assinale a alternativa correta quanto à concordância verbal:

- (A) Acontece coisas estranhas naquele escritório.
- (B) Existe muitos obstáculos para o sucesso.
- (C) Haviam vários erros de pontuação.
- (D) Um quinto dos alunos acertou a questão.

**MATEMÁTICA****QUESTÃO 11**

Observe as temperaturas registradas em algumas cidades brasileiras em determinado dia de inverno, conforme os termômetros a seguir:



A soma dessas temperaturas é igual a:

- (A) - 19°.
- (B) - 3°.
- (C) 3°.
- (D) 19°.

**QUESTÃO 12**

Em um simulado preparatório para o ENEM realizado por uma escola estadual de Santa Catarina, das 130 questões, Pedro acertou 56. Se mantivesse a mesma proporção, quantos acertos, aproximadamente, ele teria, se a prova fosse composta de 280 questões?

- (A) 56.
- (B) 85.
- (C) 120.
- (D) 125.

**QUESTÃO 13**

A decomposição correta em fatores primos do número 36 é igual a:

- (A)  $2 \times 3 \times 6$ .
- (B)  $22 \times 9$ .

- (C)  $22 \times 32$ .
- (D)  $4 \times 9$ .

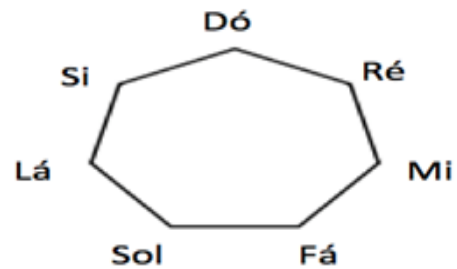
**QUESTÃO 14**

Beatriz irá repartir R\$ 48,00 entre suas três filhas de forma diretamente proporcional às suas idades. Carla tem 6 anos, Jaqueline 8 anos e Larissa 10 anos. Qual será o valor recebido por cada filha de Beatriz?

- (A) 12, 16 e 20.
- (B) 10, 18 e 20.
- (C) 8, 18 e 22.
- (D) 6, 20 e 22.

**QUESTÃO 15**

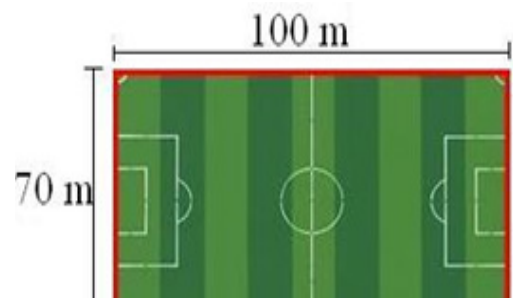
A palavra polígono vem do grego poli, que significa muitos, e gonos, que é igual a lados. Então, polígonos são figuras compostas por vários lados. O nome do polígono representado a seguir é:



- (A) Icoságono.
- (B) Dodecágono.
- (C) Eneágono.
- (D) Heptágono.

**QUESTÃO 16**

Do latim arĕa, o conceito de área refere-se a um espaço de terra que se encontra compreendido entre certos limites. Nesse sentido, uma área é um espaço delimitado por determinadas características geográficas, zoológicas, econômicas ou de qualquer outro tipo. Assim, qual é a área do campo de futebol representado na figura a seguir?



Fonte: mundoeducacao.com.

- (A) 30 m<sup>2</sup>.
- (B) 170 m<sup>2</sup>.
- (C) 340 m<sup>2</sup>.
- (D) 7000 m<sup>2</sup>.

### QUESTÃO 17

Um taxista cobra R\$ 30,00 a bandeirada (valor pago para acionar o táxi), mais R\$ 0,58 por quilometro rodado. Se uma pessoa dispõe de R\$ 73,50, a quilometragem máxima percorrida com esse veículo será de:

- (A) 65 Km.
- (B) 70 Km.
- (C) 75 Km.
- (D) 80 Km.

### QUESTÃO 18

Em uma visita ao shopping de sua cidade, Maria resolveu comprar uma bolsa que custava R\$ 120,00. Ao pagar à vista, ela ganhou um desconto, pagando R\$ 84,00 pelo produto. O desconto adquirido na compra da bolsa foi de:

- (A) 20%.
- (B) 25,5%.
- (C) 30%.
- (D) 32%.

### QUESTÃO 19

Paulo é um aluno dedicado, que gosta muito de estudar. Observe as notas de algumas disciplinas obtidas por ele nos 4 bimestres de determinado ano letivo.

Disciplina	1º Bim.	2º Bim.	3º Bim.	4º Bim.
Português	6,5	8,3	7,3	8,9
Matemática	7,6	7,8	8,2	7,2
Geografia	8,4	6,7	7,1	7,9
Ciências	7,2	8,6	6,5	7,3

Qual é a disciplina em que João possui a melhor média?

- (A) Ciências.
- (B) Geografia.
- (C) Matemática.
- (D) Português.

### QUESTÃO 20

Em uma gincana escolar, o professor propôs um desafio envolvendo as equações do 1º grau aos alunos. Caso resolvessem o problema de forma adequada, eles ganhariam um ponto na média final. O desafio era o seguinte: Um número somado ao seu dobro e subtraído a sua terça parte é igual a 96.

Quem resolvesse de forma adequada essa equação encontraria o número. Assinale a resposta correta.

- (A) 24.
- (B) 36.
- (C) 42.
- (D) 48.

## LEGISLAÇÃO/ CONHECIMENTOS GERAIS

### QUESTÃO 21

Segundo a Constituição Federal, é correto afirmar que o Município rege-se-á por:

- (A) lei orgânica.
- (B) constituição municipal.
- (C) lei complementar.
- (D) decreto do Prefeito Municipal.

### QUESTÃO 22

Segundo a Constituição Federal e o Estatuto do Servidor Público de Água Doce, é correto afirmar que o concurso terá validade de até:

- (A) dois anos, podendo ser prorrogado quantas vezes a administração municipal compreenda necessário.
- (B) dois anos, podendo ser prorrogado por igual período.
- (C) dois anos, não podendo ser prorrogado.
- (D) três anos, podendo ser prorrogado por igual período.

### QUESTÃO 23

Conforme o Estatuto do Servidor Público de Água Doce, assinale a alternativa correta sobre férias:

- (A) O servidor fará jus a trinta dias consecutivos de férias, que podem ser acumulados até o máximo de quatro períodos.
- (B) Não há possibilidade de conversão de nenhu-

ma parcela em abono pecuniário.

(C) Uma vez iniciada as férias nunca poderá ser interrompida.

(D) Para o primeiro período aquisitivo de férias serão exigidos doze meses de exercício.

#### QUESTÃO 24

A Lei Orgânica de Água Doce estabelece como atribuição privativa do Prefeito:

(A) fixar os subsídios dos vereadores.

(B) julgar as contas anuais do Município.

(C) sancionar, promulgar e fazer publicar as leis aprovadas pela Câmara.

(D) processar e julgar os vereadores.

#### QUESTÃO 25

A Lei Orgânica de Água Doce estabelece como atribuição privativa do Legislador Municipal:

(A) decretar, nos termos legais, desapropriação por necessidade ou utilidade pública ou por interesse social.

(B) celebrar convênios com entidades públicas ou privadas para a realização de objetivos de interesse do Município.

(C) fiscalizar e controlar, diretamente, os atos do Poder Executivo, incluídos os da administração indireta e funcional.

(D) decretar estado de emergência.

#### QUESTÃO 26

A Lei Orgânica de Água Doce prevê que são auxiliares diretos do Prefeito:

(A) os secretários municipais.

(B) o promotor público.

(C) o assessor jurídico.

(D) os vereadores.

#### QUESTÃO 27

Conforme o Estatuto do Servidor Público de Água Doce, está prevista a seguinte penalidade pelo cometimento de falta disciplinar:

(A) Transferência de setor.

(B) Suspensão.

(C) Disponibilidade com vencimentos parciais.

(D) Retratação pública.

#### QUESTÃO 28

Conforme o Estatuto do Servidor Público de Água Doce, é direito do servidor público:

(A) recusar fé a documentos públicos.

(B) coagir subordinados para que ingressem em partido político.

(C) chegar atrasado em até quinze minutos.

(D) auxílio-natalidade.

#### QUESTÃO 29

A Constituição Federal prevê como imposto dos municípios:

(A) IPVA.

(B) ITR.

(C) IPTU.

(D) IRPF.

#### QUESTÃO 30

Entre os princípios constitucionais da Administração Pública, aquele que determina que o funcionário público somente pode fazer aquilo que está em Lei, é o princípio da:

(A) legitimidade.

(B) legalidade.

(C) impessoalidade.

(D) eficiência.

### CONHECIMENTOS ESPECÍFICOS

#### QUESTÃO 31

O cinto de segurança existe para limitar a movimentação dos ocupantes de um veículo, em casos de acidentes ou numa freada brusca. Quanto ao uso do cinto de segurança, a opção que caracteriza a maneira INCORRETA é:

(A) Não ajustá-lo firmemente ao corpo, deixando folgas.

(B) A faixa inferior deverá ficar abaixo do abdome, sobretudo para as gestantes.

(C) A faixa transversal deve vir sobre o ombro, atravessando o peito, sem tocar o pescoço.

(D) Não se deve usar presilhas, pois elas anulam os efeitos do cinto de segurança.

### QUESTÃO 32

Para se habilitar nas categorias D e E, a fim de conduzir veículo de transporte coletivo de passageiros, de escolares, de emergência ou de produto perigoso, o candidato deverá preencher os seguintes requisitos, EXCETO:

- (A) Ser maior de vinte e um anos.
- (B) Estar habilitado, no mínimo, há um ano na categoria A, quando pretender se habilitar na categoria E.
- (C) Não ter cometido nenhuma infração grave ou gravíssima ou ser reincidente em infrações médias durante os últimos doze meses.
- (D) Ser aprovado em curso especializado e em curso de treinamento de prática veicular em situação de risco, nos termos da normatização do Contran.

### QUESTÃO 33

Em caso de acidentes de trânsito, assinale a ação pertinente aos primeiros socorros que você deve realizar:

- (A) Acionamento de recurso especializado.
- (B) Omitir socorro com pretexto de não testemunhar.
- (C) Tumultuar o local do acidente.
- (D) Tentar remover a vítima presa às ferragens, sem estar preparado.

### QUESTÃO 34

A ilustração a seguir refere-se à sinalização de advertência e significa:



- (A) Vire à esquerda.
- (B) Curva à esquerda.
- (C) Curva acentuada à direita.
- (D) Mudança de faixa à esquerda.

### QUESTÃO 35

Constitui infração de trânsito a inobservância de qualquer preceito do Código de Trânsito, da legislação complementar ou das resoluções do Contran,

sendo o infrator sujeito às penalidades e às medidas administrativas. Das infrações apresentadas nas alternativas a seguir, a única que não constitui infração gravíssima é:

- (A) Dirigir veículo sem possuir Carteira Nacional de Habilitação, ou Permissão para Dirigir.
- (B) Dirigir sob a influência de álcool ou de qualquer outra substância psicoativa que determine dependência.
- (C) Transportar crianças em veículo automotor sem observância das normas de segurança especiais.
- (D) Parar o veículo afastado da guia da calçada (meio-fio) de cinquenta centímetros a um metro.

### QUESTÃO 36

Os óleos lubrificantes automotivos são utilizados de forma a garantir o bom funcionamento dos veículos. Entre as funções indicadas a seguir, qual NÃO se refere aos lubrificantes:

- (A) Lubrificar e aquecer.
- (B) Limpar e manter o motor limpo.
- (C) Proteger contra a corrosão, o desgaste e a formação de ácidos no interior do motor.
- (D) Auxiliar na vedação da câmara de combustão.

### QUESTÃO 37

Os condutores de veículos de urgência devem:

- I. ser profissionais de nível básico, habilitados a conduzir veículos de urgência padronizados pelo código sanitário.
- II. ser maiores de vinte e um anos; possuir disposição pessoal para a atividade; equilíbrio emocional e autocontrole; disposição para cumprir ações orientadas; habilitação profissional como motorista de veículos de transporte de pacientes, de acordo com a legislação em vigor (Código Nacional de Trânsito).
- III. ter capacidade de trabalhar em equipe; disponibilidade para capacitação, bem como para a recertificação periódica.
- IV. conduzir veículo terrestre de urgência destinado ao atendimento e transporte de pacientes; devem conhecer integralmente o veículo e realizar manutenção básica dele; estabelecer contato radiofônico (ou telefônico) com a central de regulação médica e seguir suas orientações; conhecer a

malha viária local.

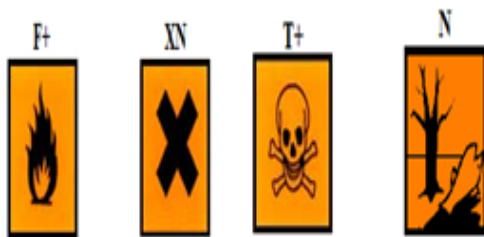
V. conhecer a localização de todos os estabelecimentos de saúde integrados ao sistema assistencial local, auxiliar a equipe de saúde nos gestos básicos de suporte à vida; auxiliar a equipe nas imobilizações e no transporte de vítimas; realizar medidas de reanimação cardiopulmonar básica; identificar todos os tipos de materiais existentes nos veículos de socorro e sua utilidade, a fim de auxiliar a equipe de saúde.

Avaliando essas afirmativas, é correto o que consta nos itens:

- (A) I, II, III e V.
- (B) I, III e V.
- (C) II, III, IV e V.
- (D) I, II, III, IV e V.

### QUESTÃO 38

Ao transportar cargas perigosas, é necessário o conhecimento de algumas sinalizações:



A nomenclatura correta das placas, respectivamente, é:

- (A) Extremamente inflamável, Nocivo, Muito Tóxico, Perigoso para o meio ambiente.
- (B) Inflamável, Nocivo, Tóxico, Perigoso para o meio ambiente.
- (C) Inflamável, Extremamente Nocivo, Muito Tóxico, Perigoso para o meio ambiente.
- (D) Extremamente inflamável, Extremamente Nocivo, Tóxico, Perigoso para o meio ambiente.

### QUESTÃO 39

O condutor do veículo público deve inspecionar o veículo antes da sua partida, durante o seu deslocamento, nas paradas e após o serviço. Observando os seguintes aspectos, qual NÃO deve ser seguido:

- (A) Limpeza (interna e externa), documentação (veículo e condutor), ferramentas (macaco, cabo, chave de rodas e outros), equipamentos (extintor, triângulo, cintos de segurança e outros), tapeçaria, me-

cânica (direção, freios, inclusive nível de óleo, pedal da embreagem, amortecedores, borrachas e outros).

(B) Sistema elétrico (faróis, lanternas, setas, luz de freio, luz de ré, luzes de emergência, luz de cortesia, luz do painel, buzina, lanterna da placa traseira, limpador do para-brisa, lavador do para-brisa, motor de partida, alternador, bateria, instrumentos do painel, regulador de voltagem e outros).

(C) Funilaria e pintura (para-lamas, portas, capô do motor, tampa do porta-malas, para-choques e outros), pneus e rodas (pneus, estepe, aros e calotas).

(D) Motor (nível de óleo do motor, correias, mangueira, ruídos anormais, regulagem, velas e cabos), reposição na Bolsa de Ferramentas, manutenção a cada 500 km. Não há a necessidade de comunicar as anormalidades constatadas, por escrito, à chefia imediata.

### QUESTÃO 40

Ao acionar o comando de um veículo, duas luzes acendem no painel. Com base na imagem a seguir, da esquerda para a direita, o que cada uma significa?



- (A) Combustível e faróis.
- (B) Injeção eletrônica e faróis.
- (C) Combustível e freios.
- (D) Injeção eletrônica e freios.