



CONCURSO PÚBLICO
PREFEITURA MUNICIPAL DE ÁGUA DOCE - SC

EDITAL N. 011/2015

CADERNO DE PROVAS
TÉCNICO EM HIGIENE DENTAL

ASSINATURA DO CANDIDATO

Execução:





CONCURSO PÚBLICO PREFEITURA MUNICIPAL DE ÁGUA DOCE - SC

CADERNO DE PROVAS DE CONHECIMENTOS GERAIS E ESPECÍFICOS

TÉCNICO EM HIGIENE DENTAL - MÉDIO

ORIENTAÇÕES GERAIS

LEIA COM ATENÇÃO AS ORIENTAÇÕES A SEGUIR:

- Você recebeu do fiscal de sala o material: caderno de provas e cartão-resposta.
- A prova terá duração de 3 (três) horas, incluindo o tempo de preenchimento do CARTÃO-RESPOSTA.
- O prazo mínimo de permanência em sala é de 1 (uma) hora.
- Autorizado o início da prova, verifique se este caderno contém questões objetivas de conhecimentos específicos, conforme solicitado no ato da inscrição, e questões de conhecimentos gerais, matemática e língua portuguesa. Verifique se o material está em ordem, e se o seu nome, CPF e número de inscrição conferem com os que aparecem no CARTÃO-RESPOSTA. Caso contrário, comunique imediatamente o fiscal.
- Ao terminar a conferência do Caderno de Provas, caso esteja incompleto ou tenha defeito, solicite ao fiscal de sala que o substitua, não cabendo reclamações posteriores nesse sentido. O candidato deverá verificar, ainda, se o cargo em que se inscreveu se encontra devidamente identificado no Caderno de Provas.
- Todas as questões da prova são de múltipla escolha. Para cada uma das questões objetivas, são apresentadas quatro alternativas (A, B, C, D) e somente uma delas corresponde à alternativa correta. Assinale UMA RESPOSTA; a marcação em mais de uma alternativa anula a questão, mesmo que uma das respostas esteja correta.
- No CARTÃO-RESPOSTA, a marcação das letras que correspondem às respostas corretas deve ser realizada com caneta esferográfica de tinta preta ou azul, de forma contínua e densa, cobrindo todo o espaço compreendido pelos círculos. A leitora óptica é sensível a marcas escuras, portanto, preencha os campos de marcação completamente. Exemplo: ●
- O preenchimento do CARTÃO-RESPOSTA é de inteira responsabilidade do candidato. Em hipótese alguma haverá substituição dele por erro do candidato.
- Não serão computadas questões não respondidas nem questões que contenham mais de uma resposta (mesmo que uma delas esteja correta), emenda ou rasura, ainda que legível.
- CUIDADO COM O CARTÃO-RESPOSTA: não risque, não amasse, não dobre, não suje, pois ele é insubstituível.
- SERÁ ELIMINADO DO PROCESSO SELETIVO o candidato que, durante a realização das provas:
 - a) retirar-se do recinto da prova, durante sua realização, sem a devida autorização;
 - b) for surpreendido dando e/ou recebendo auxílio para a execução de quaisquer questões/itens das provas;
 - c) usar ou tentar usar meios fraudulentos e/ou ilegais para a sua realização;
 - d) utilizar-se de régua de cálculo, livros, calculadoras e/ou equipamento similar, dicionário, notas e/ou impressos que não forem expressamente permitidos, gravador, receptor e/ou *paggers*, e/ou se comunicar com outro candidato;
 - e) faltar com a devida cortesia para com qualquer membro da equipe de aplicação das provas, autoridades presentes e/ou outros candidatos;
 - f) fizer anotação de informações relativas às suas respostas em qualquer outro meio que não o permitido neste Edital;
 - g) descumprir as instruções contidas no Caderno de Provas e no Cartão de Respostas;
 - h) recusar-se a entregar o Caderno de Provas e o Cartão de Respostas ao término do tempo destinado à sua realização;
 - i) ausentar-se da sala, a qualquer tempo, portando o Cartão de Respostas;
 - j) não permitir a coleta de sua assinatura ou não atender ao procedimento de coletar sua impressão digital;
 - k) perturbar, de qualquer modo, a ordem dos trabalhos, incorrendo em comportamento indevido;
 - l) for surpreendido portando ou fazendo uso de aparelho celular e/ou quaisquer aparelhos eletrônicos durante a realização das provas, mesmo que o aparelho esteja desligado.
- Não será permitida, também, ao candidato, a utilização de telefone celular ao final das provas, enquanto estiver dentro da unidade de aplicação destas.
- Os fiscais não estarão autorizados a emitir opinião nem a prestar esclarecimentos sobre o conteúdo das provas. Cabe, exclusivamente, ao candidato interpretar o enunciado da questão e decidir a resposta.
- Ao terminar a prova, entregue ao fiscal de sala o CADERNO DE PROVA e o CARTÃO-RESPOSTA. Está permitido levar apenas o rascunho do gabarito que se encontra na última página do caderno de prova.
- Após a realização da prova o candidato deverá imediatamente sair das instalações físicas do local da prova, não lhe sendo mais permitido o ingresso aos sanitários.
- Os três últimos candidatos permanecem em sala, pois deverão entregar as provas simultaneamente.
- Se do exame de recursos resultar anulação de item integrante de prova, a pontuação correspondente a esse item será atribuída a todos os candidatos, independentemente de terem recorrido.
- O gabarito preliminar da prova estará disponível em 18/01/2016, a partir das 14h, na página da Prefeitura Municipal de Água Doce (<http://www.aguadoce.sc.gov.br>) e na página da Unoesc (<http://unoesc.edu.br/>).

LÍNGUA PORTUGUESA

QUESTÃO 1

Assinale a alternativa em que todas as palavras estão ortograficamente corretas:

- (A) tangerina – hortênsia – ânsia – ocilar.
- (B) tesoura – surpresa – proeza – prezar.
- (C) escasso – resurreição – maçaroca – excesso.
- (D) próximo – cresço – exceto – contorsão.

QUESTÃO 2

Assinale a alternativa em que há palavra(s) acentuada(s) de forma ERRADA:

- (A) paletó – porém – açúcar.
- (B) romântico – fácil – anéis.
- (C) chapéu – cadáver – saúde.
- (D) amável – têxtil – páis.

QUESTÃO 3

Leia e observe a tirinha do Armandinho e responda à questão 3.



Fonte: <<https://www.facebook.com/tirasarmandinho/?ref=ts>>.

O humor da tirinha acontece porque a palavra **placa** pode ter mais de uma significação. A esse fato linguístico atribui-se o nome de:

- (A) homonímia.
- (B) paronímia.
- (C) sinonímia.
- (D) polissemia.

QUESTÃO 4

Assinale a alternativa em que se deve usar crase:

- (A) Assisto a filmes românticos.
- (B) Tenho quadros pintados a óleo.
- (C) Chegamos ao hotel as 18 horas.
- (D) Aquela placa vai cair a qualquer hora.

QUESTÃO 5

Assinale a alternativa em que os prefixos em ambas as palavras têm o mesmo significado:

- (A) antítese – contramarcha.
- (B) infravermelho – intramuscular.
- (C) circumpolar – ultramarino.
- (D) semicírculo – endocarpo.

QUESTÃO 6

Dadas as afirmativas a seguir:

- I. Álbum, pão e constelação são substantivos coletivos.
- II. O coletivo de espectadores é plateia.
- III. O substantivo coletivo século refere-se a um período de 100 anos.

Está(ão) correta(s) a(s) afirmativa(s):

- (A) II e III.
- (B) I, II e III.
- (C) II.
- (D) III.

QUESTÃO 7

Assinale a alternativa INCORRETA quanto à colocação dos pronomes oblíquos átonos:

- (A) Ajudavam-na toda quarta-feira.
- (B) Nada os perturba.
- (C) Me calei para não contrariar ninguém.
- (D) A reunião realizar-se-á em fevereiro.

QUESTÃO 8

Assinale a alternativa **INCORRETA** quanto à colocação de vírgulas:

- (A) Os clientes chegam, olham, perguntam o preço e saem.
- (B) Os jogadores, participarão de todas as etapas do campeonato.
- (C) Joana, apesar de jovem, tem problemas cardíacos.
- (D) Joaçaba, 12 de abril de 2015.

QUESTÃO 9

A conjunção subordinativa **como** na oração "Como combinamos, a reunião será às 15h." assume a função de **conjunção subordinativa adverbial**:

- (A) causal.
- (B) conformativa.
- (C) comparativa.
- (D) temporal.

QUESTÃO 10

Assinale a alternativa em que o verbo está conjugado no pretérito perfeito do indicativo:

- (A) Ele estudou para a prova.
- (B) Ele estudava para a prova.
- (C) Ele estudara para a prova.
- (D) Ele estuda para a prova.

MATEMÁTICA**QUESTÃO 11**

Quatro candidatos disputaram uma única vaga em determinado concurso. Foram realizados vários testes com esses candidatos: Eduardo, Leonardo, Pedro e Thiago. A tabela a seguir mostra os desempenhos desses candidatos nas provas a que se submeteram:

Provas/Peso	Eduardo	Leonardo	Pedro	Thiago
Português/ Peso 3	8,5	9,5	9,0	10,0
Matemática/ Peso 3	9,5	9,0	10,0	9,5
Informática/ Peso 2	8,0	8,5	7,5	7,0
Inglês/ Peso 1	7,0	8,0	7,5	7,0
Economia/ Peso 1	7,0	6,0	6,5	5,0

O candidato que ocupará a vaga será aquele que obtiver a maior média ponderada. Então, a vaga desse concurso foi preenchida por:

- (A) Leonardo.
- (B) Eduardo.
- (C) Pedro.
- (D) Thiago.

QUESTÃO 12

Dois empresas de transportes têm valores distintos nas prestações de seus serviços. A Empresa Seguro S.A. cobra uma taxa de R\$ 400,00, mais R\$ 1,50 por quilômetro percorrido; já a Empresa Viagem Bem S.A. cobra uma taxa de R\$ 200,00, mais R\$ 2,10 por quilômetro rodado. Qual é a quilometragem aproximada percorrida para que as duas empresas fiquem equivalentes?

- (A) 167 km.
- (B) 56 km.
- (C) 334 km.
- (D) 480 km.

QUESTÃO 13

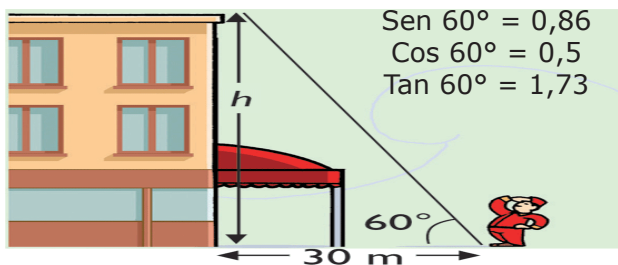
O valor do determinante da matriz a seguir é igual a:

$$\begin{bmatrix} \log_2 16 & \log_3 243 \\ \log_5 25 & \log_4 64 \end{bmatrix}$$

- (A) 12.
- (B) 10.
- (C) 22.
- (D) 26.

QUESTÃO 14

Um prédio será constituído de 10 andares, incluindo o saguão de entrada. Até o momento, já foram construídos 3 andares, conforme a imagem a seguir:



Fonte: <<http://sigmadeltaaulas.blogspot.com.br/2015/09/trigonometria.html>>.

Sabendo-se que os outros andares manterão a mesma proporção, qual será a altura total desse prédio?

- (A) 112,9 m.
- (B) 173 m.
- (C) 51,9 m.
- (D) 519 m.

QUESTÃO 15

Num grupo de 200 atletas, 100 deles praticam vôlei, 80 praticam basquete e 60 praticam handebol, 30 praticam vôlei e basquete, 20 praticam vôlei e handebol, 25 praticam basquete e handebol e 12 os três esportes. Escolhida uma pessoa ao acaso, qual a probabilidade de essa pessoa praticar somente vôlei?

- (A) $\frac{37}{200}$.
- (B) $\frac{27}{100}$.
- (C) $\frac{31}{100}$.
- (D) $\frac{23}{200}$.

QUESTÃO 16

Uma sequência de moedas será formada por quinze fileiras, conforme imagem a seguir:



Assim, o valor acumulado para formar essa sequência de quinze fileiras, com moedas de 25 centavos, será de:

- (A) R\$ 18,50.
- (B) R\$ 38,75.
- (C) R\$ 7,25.
- (D) R\$ 56,25.

QUESTÃO 17

Atualmente, a variedade de carros no nosso cotidiano é muito grande. Por exemplo, o Minivan Spin da Chevrolet 2016 chegará ao mercado com opções de cinco e sete lugares.



Fonte: <<http://www.chevrolet.com.br/minivans/spin.html>>.

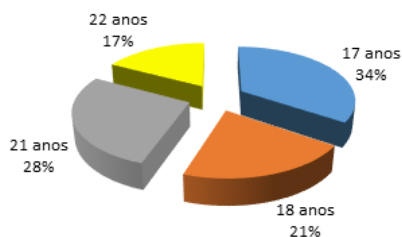
Uma família de sete pessoas do Meio-Oeste catarinense adquiriu esse veículo e resolveu fazer uma viagem de férias para o litoral do Rio de Janeiro. Assim, de quantas maneiras distintas essa família poderá ocupar os assentos desse veículo, sabendo-se que apenas quatro delas sabem dirigir?

- (A) 2.880.
- (B) 2.160.
- (C) 5.040.
- (D) 1.510.

QUESTÃO 18

Um professor de Agronomia resolveu elaborar um gráfico que represente a quantidade de alunos de uma de suas turmas conforme a faixa etária. O total de alunos dessa turma é igual a 29. Observe o gráfico a seguir:

Idade dos Acadêmicos do Curso de Agronomia



Uma comissão de cinco alunos será formada com três alunos de 17 anos e dois alunos de 22 anos. Quantas comissões distintas podemos formar com esse grupo de alunos?

- (A) 3.500.
 (B) 12.455.
 (C) 455.
 (D) 47.775.

QUESTÃO 19

Resolva as operações de divisão de números complexos a seguir:

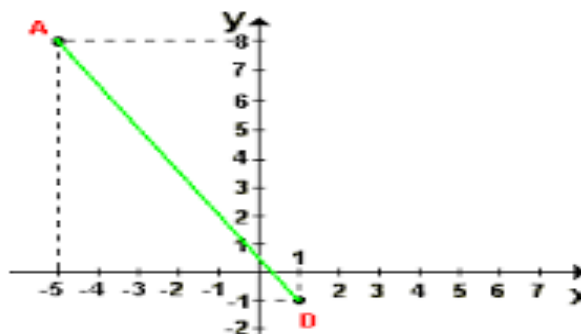
$$\frac{-10 + 15i}{2 - i} \quad \text{e} \quad \frac{1 + 3i}{1 + i}$$

A soma dos resultados dessas divisões é igual a:

- (A) $5 + 5i$.
 (B) $-5 + 5i$.
 (C) $-9 + 18i$.
 (D) $3 + 18i$.

QUESTÃO 20

Na representação do plano cartesiano, as distâncias entre os pontos são iguais, e cada centímetro corresponde a 80 km na vida real. Um automóvel sai da cidade A e faz um trajeto em linha reta até a cidade D, conforme figura a seguir:



Fonte: <http://www.tutorbrasil.com.br/estudo_matematica_online/faq_matematica/geoanal01.php>.

O valor aproximado da distância percorrida por esse automóvel é de:

- (A) 536 km.
 (B) 864,8 km.
 (C) 480 km.
 (D) 912,3 km.

CONHECIMENTOS GERAIS**QUESTÃO 21**

Segundo a Constituição Federal, são princípios da administração pública:

- (A) legalidade, pessoalidade, moralidade, publicidade e eficiência.
 (B) legalidade, impessoalidade, imoralidade, publicidade e eficiência.
 (C) legalidade, impessoalidade, moralidade, sigilo e eficiência.
 (D) legalidade, impessoalidade, moralidade, publicidade e eficiência.

QUESTÃO 22

Assinale a alternativa correta, conforme o que dispõe a Lei Orgânica de Água Doce sobre a competência privativa da câmara de vereadores:

- (A) Determinar a abertura de meio de acesso à cultura, à educação e à ciência.
- (B) Fiscalizar e controlar, diretamente, os atos do Poder Executivo, incluídos os da administração indireta e funcional.
- (C) Legislar sobre a proteção ao meio ambiente e o combate à poluição.
- (D) Promover o incentivo à indústria e ao comércio.

QUESTÃO 23

Assinale a alternativa correta, conforme o que dispõe a Lei Orgânica de Água Doce sobre a competência privativa do prefeito:

- (A) Decretar o plano plurianual, a lei de diretrizes orçamentárias, a lei orçamentária anual, bem como autorização para a abertura de créditos suplementares e especiais.
- (B) A concessão ou alienação de bens imóveis públicos.
- (C) Fixar os tributos municipais, bem como autorizar isenções e anistias fiscais e a remissão de dívidas.
- (D) Vetar projetos de lei aprovados pela Câmara, total ou parcialmente.

QUESTÃO 24

Segundo o Regime Jurídico dos servidores municipais de Água Doce, NÃO é forma de provimento de cargo:

- (A) lotação provisória.
- (B) reintegração.
- (C) reversão.
- (D) nomeação.

QUESTÃO 25

Conforme o Regime Jurídico dos servidores municipais de Água Doce, serão especialmente objeto de avaliação no estágio probatório:

- (A) assiduidade, disciplina, produtividade e responsabilidade.
- (B) disciplina, iniciativa, produtividade e responsabilidade.
- (C) assiduidade, disciplina, iniciativa, produtividade e responsabilidade.
- (D) disciplina, iniciativa e responsabilidade.

QUESTÃO 26

Segundo o Regime Jurídico dos servidores municipais de Água Doce, ocorre a prescrição para aplicação da pena de demissão depois de:

- (A) dez anos.
- (B) cinco anos.
- (C) um ano.
- (D) é imprescritível.

QUESTÃO 27

De acordo com o Regime Jurídico dos servidores municipais de Água Doce, estão entre os deveres dos servidores:

- (A) proceder de forma desidiosa.
- (B) recusar fé aos documentos públicos.
- (C) guardar sigilo das informações da repartição.
- (D) obedecer em qualquer situação o prefeito municipal.

QUESTÃO 28

Fazem parte das principais fontes econômicas do Município de Água Doce:

- (A) energia eólica, pecuária e informática.
- (B) energia eólica, agricultura, pecuária e minérios.
- (C) serviços de transportes, pecuária e informática.
- (D) energia eólica, pecuária e extração de madeira.

QUESTÃO 29

Em 2010, a população de Água Doce, segundo o IBGE, era de:

- (A) 6.961 habitantes.
- (B) 7.525 habitantes.
- (C) 15.210 habitantes.
- (D) 4.257 habitantes.

QUESTÃO 30

Em 25 de julho de 2015, o Município de Água Doce comemorou quantos anos de instalação?

- (A) 60.
- (B) 55.
- (C) 90.
- (D) 57.

CONHECIMENTOS ESPECÍFICOS**QUESTÃO 31**

O Brasil apresenta uma história de saúde muito jovem quando comparado aos países dos continentes europeu, asiático e africano, uma vez que nossa percepção de saúde foi construída com o avanço dessas civilizações. No que se refere à saúde em nosso País, a oferta sempre esteve vinculada à necessidade de produção e ao avanço da economia. Nesse ponto, na década de 1980, surge o Sistema Único de Saúde, que foi uma exceção. Sobre a construção do modelo de saúde vigente, podemos afirmar que:

- (A) O SUS foi elaborado seguindo os preceitos americanos de promoção de saúde, com forte interferência do mercado na oferta de atendimento, representada pelas Organizações Sociais de Saúde.
- (B) O SUS é originado mediante a luta das classes sociais, em que a maior parcela da população, representada pelas donas de casa, conseguiu fazer valer o direito a todos pela saúde.
- (C) O SUS foi construído nas bases da universalidade, equidade e integralidade, com controle social, sem permitir a participação do setor privado dentro do sistema.
- (D) O SUS surgiu por meio da luta pelos direitos sociais, iniciados nas periferias do País, que encontrou voz junto aos trabalhadores da área da saúde, culminando na ideia de um sistema único para todos.

QUESTÃO 32

A Estratégia de Saúde da Família, programa criado pelo Governo Federal, em 1994, tem como ideia central a atuação na promoção de saúde dentro dos núcleos familiares. Considerando o conceito de promoção de saúde, analise as seguintes sentenças:

- I. Realização e atualização de mapeamento da área de abrangência com identificação das áreas de risco e vulnerabilidade.
- II. Palestras educativas com grupos de gestantes.
- III. Acompanhamento mensal das famílias, a partir de visitas domiciliares realizadas pelos agentes comunitários de saúde.
- IV. Restauração de elementos dentais com cavitação.

Está correto o que consta nas sentenças:

- (A) I, II, III e IV.
- (B) I e IV.
- (C) II, III e IV.
- (D) I, II e III.

QUESTÃO 33

O desenvolvimento de ações na perspectiva do cuidado em saúde bucal tem alguns princípios norteadores além dos encontrados no texto da Constituição Federal. Sobre esses princípios, avalie as alternativas a seguir:

- I. A gestão participativa une as representações dos usuários, trabalhadores e prestadores de serviço da saúde bucal em todas as esferas de governo com o objetivo de desenvolver as ações e prestar um atendimento resolutivo e humanizado.
- II. O princípio do acesso visa garantir o acesso universal para a assistência e dar atenção a toda demanda expressa ou reprimida, não priorizando nenhum tipo de ocorrência.
- III. O acolhimento diz respeito à ação centrada na doença do paciente, em que o trabalho será desenvolvido para melhorar a condição que o está fazendo sofrer.
- IV. O vínculo é a base da humanização, e, para se conseguir o vínculo, faz-se necessária a definição das responsabilidades de cada membro da equipe pelas tarefas necessárias ao atendimento nas situações de rotina ou imprevistas.
- V. A responsabilidade profissional é o princípio que leva o profissional a se implicar com os problemas e demandas dos usuários, garantindo respostas resolutivas, tornando-se corresponsável pelo enfrentamento dos fatores associados com o processo saúde-doença em cada território.

Está correto o que consta nas alternativas:

- (A) I, IV e V.
- (B) I, II e IV.
- (C) I, II e V.
- (D) II e III.

QUESTÃO 34

As atividades do THD dentro da ESF são muito diversificadas, vão desde o trabalho organizacional, ações com grupos de risco, até o atendimento clínico. Entre as atividades que desenvolve, está a visita domiciliar. Sobre essa atividade, é correto afirmar:

- (A) A visita domiciliar é realizada mensalmente pelo THD, a fim de fazer uma busca ativa por pacientes que necessitem de tratamento odontológico.
- (B) Os agentes comunitários de saúde são os responsáveis pela visita domiciliar, por serem habitantes da área onde atuam, sendo o THD convidado a participar na educação em saúde bucal em áreas de risco.
- (C) O THD pode fazer a visita domiciliar em apenas uma unidade da ESF, sendo realizada apenas quando há necessidade observada.
- (D) A visita domiciliar do THD, assim como a de outros profissionais, ocorre quando existe a necessidade de atendimento a um indivíduo que não tem possibilidade de locomoção até a UBS, ou ao qual essa locomoção afetaria ainda mais a saúde.

QUESTÃO 35

De acordo com Tenuta e Cury (cadernos da Aboprev, 2005) e Pereira (2009, p. 501), sobre os métodos recomendados para o uso dos fluoretos que são mais amplamente utilizados e indicados, em níveis individuais e coletivos, pode-se citar, respectivamente:

- (A) o uso da solução para bochecho a 0,05% de NaF e a fluoretação das águas de abastecimento público.
- (B) o uso da solução para bochecho a 0,2% de NaF e a fluoretação das águas de abastecimento público.
- (C) a escovação com o uso de dentifício fluoretado e fluoretação das águas de abastecimento público.
- (D) a escovação com o uso de dentifício fluoretado e o uso da solução para bochecho a 0,2% de NaF.

QUESTÃO 36

Analise as afirmações a seguir sobre a fluorose dental:

- I. A intoxicação crônica ocorre quando da ingestão de flúor em pequena quantidade, porém, acima da quantidade necessária adequada à formação do esmalte.
- II. O tratamento para a fluorose sempre será a realização de coroas de porcelana.
- III. O tratamento da fluorose, a princípio, deve ser a microabrasão; quando esta não apresentar resultado estético satisfatório, pode-se associar à microrredução do esmalte com ponta diamantada de granulação fina, a realização de facetas ou restaurações e resina.
- IV. O clareamento caseiro convencional é a melhor solução.

Estão corretas apenas as afirmações:

- (A) I e II.
- (B) I e III.
- (C) I e IV.
- (D) II e III.

QUESTÃO 37

O jaleco faz parte do equipamento de proteção individual dos profissionais da área da saúde e evita o contato direto com vários microrganismos. Analise as sentenças a seguir:

- I. O microrganismo mais presente no jaleco do THD é o *Streptococcus aureus*.
- II. A segunda maior fonte de contaminação do THD é a máscara.
- III. A área de maior contaminação do THD é o antebraço e o tórax.
- IV. A área de maior contaminação do THD é o punho e o antebraço.

Está correto o que consta nas sentenças:

- (A) I e III.
- (B) I, II e III.
- (C) II e IV.
- (D) I, II e IV.

QUESTÃO 38

A cárie continua sendo uma doença de preocupação social; em relação a essa patologia, pode-se afirmar que:

- (A) A película adquirida é uma camada celular na qual a característica positiva é a proteção do esmalte e o reservatório de flúor.
- (B) É necessária a presença de sacarose para que ocorra o início da desmineralização (pH crítico), em que há perda de flúor para o meio.
- (C) A mancha branca é a cárie em fase inicial da desmineralização superficial do dente.
- (D) A sondagem com explorador pontiagudo produz defeitos traumáticos irreversíveis nas áreas desmineralizadas.

QUESTÃO 39

O processo de eliminação de vírus, fungos e formas vegetativas bacterianas, exceto seus esporos, é denominado:

- (A) desinfecção.
- (B) assepsia.
- (C) descontaminação.
- (D) esterilização.

QUESTÃO 40

A prática odontológica abrange uma variedade de procedimentos, que podem incluir desde um simples exame até cirurgias mais complexas. O descuido com medidas de biossegurança tem intensificado o ciclo de infecções. Sobre o controle de infecção, analise as asserções a seguir:

- I. Todo o artigo semicrítico pode, a qualquer momento, virar crítico.
- II. A aderência de matéria orgânica dificulta a esterilização.
- III. O material é considerado condenado quando há falha em qualquer etapa, desde a pré-lavagem até o armazenamento.
- IV. Segundo o RDC n. 8, de 2009, o uso de glutaraldeído foi proibido por apresentar potencial cancerígeno.
- V. A solução de detergente enzimático tem capacidade de degradar enzimas de matéria orgânica.

São corretas as asserções:

- (A) I, IV e V.
- (B) I, II, III e V.
- (C) II, III e V.
- (D) I, II, IV e V.