



CONCURSO PÚBLICO PREFEITURA MUNICIPAL DE ERVAL VELHO

CADERNO DE PROVA DE LÍNGUA PORTUGUESA, MATEMÁTICA, LEGISLAÇÃO E CONHECIMENTO ESPECÍFICO

OPERADOR DE MÁQUINA

LEIA COM ATENÇÃO AS ORIENTAÇÕES ABAIXO:

- Você recebeu do fiscal de sala o material: caderno de prova e cartão-resposta.
 - A prova terá duração de 3 (três) horas incluindo o tempo de preenchimento do CARTÃO-RESPOSTA.
 - O prazo mínimo de permanência em sala é de 1 (uma) hora.
 - Autorizado o início da prova, verifique se este caderno contém questões objetivas de conhecimentos específicos, conhecimentos gerais, matemática e de língua portuguesa, conforme edital. Verifique se o material está em ordem e se o seu nome, CPF e número de inscrição conferem com os que aparecem no CARTÃO-RESPOSTA. Caso contrário comunique imediatamente o fiscal.
 - Todas as questões da prova são de múltipla escolha. Para cada uma das questões objetivas, são apresentadas quatro alternativas (A, B, C ou D) e somente uma corresponde à alternativa correta.
- Assinale UMA RESPOSTA: a marcação em mais de uma alternativa anula a questão, mesmo que uma das respostas esteja correta.
- No CARTÃO-RESPOSTA, a marcação das letras que correspondem às respostas corretas deve ser realizada com caneta esferográfica de tinta preta ou azul, de forma contínua e densa cobrindo todo o espaço compreendido pelos círculos. A Leitora Óptica é sensível a marcas escuras, portanto preencha os campos de marcação completamente. Exemplo: ●
 - CUIDADO COM O CARTÃO-RESPOSTA: não risque, não amasse, não dobre, não suje, pois ele é insubstituível.
 - SERÁ ELIMINADO DO CONCURSO PÚBLICO o candidato que:
 - a) durante a realização da prova utilizar, relógio, telefone celular, qualquer tipo de equipamento eletrônico ou fontes de consultas de qualquer espécie;
 - b) se ausentar da sala de prova levando consigo o CADERNO DE PROVA e/ou o CARTÃO-RESPOSTA;
 - c) se recusar a entregar o CADERNO DE PROVA e/ou CARTÃO-RESPOSTA, quando terminar o tempo estabelecido;
 - d) manter ou tentar manter qualquer tipo de comunicação com outros candidatos.
 - Os fiscais não estarão autorizados a emitir opinião, nem prestar esclarecimentos sobre o conteúdo das provas. Cabe, exclusivamente, ao candidato interpretar o enunciado da questão e decidir a resposta.
 - Ao terminar a prova, entregue ao fiscal de sala o CADERNO DE PROVA E O CARTÃO-RESPOSTA e ASSINE A LISTA DE PRESENÇA. Está permitido levar apenas o rascunho do gabarito que encontra-se na última página do caderno de prova.
 - Após a realização da prova o candidato deverá imediatamente sair das instalações físicas do local da prova.
 - Os últimos três candidatos deverão entregar simultaneamente o cartão resposta e o caderno de provas, em seguida assinarão a ata, a(s) relação(ões) de confirmação de presença dos candidatos daquela sala e rubricarão, no verso, o envelope dos cartões respostas dos candidatos que prestaram prova na respectiva sala.
 - Na hipótese de ocorrer anulação de questões, estas serão consideradas como respondidas corretamente por todos os candidatos.
 - O gabarito da prova estará disponível em 21/12/2014, a partir das 17h, na página da Prefeitura Municipal de Erval Velho/SC (www.ervavelho.sc.gov.br) e na página da Unoesc(www.unoesc.edu.br).

LÍNGUA PORTUGUESA**QUESTÃO 1**

Assinale a alternativa em que a divisão silábica de todas as palavras está CORRETA:

- (A) Sub-lo-car, ex-clu-ir, du-e-lo, U-ru-guai-a-na
- (B) Gue-rra, pre-en-cher, bí-ceps, te-sou-ro
- (C) Cau-le, de-sa-ten-to, di-g-no, pe-guei
- (D) Cres-ço, ca-o-lho, sub-es-ti-mar, gai-o-la

QUESTÃO 2

Assinale a alternativa em que todas as palavras estão grafadas corretamente:

- (A) Empecilho – umedecer – criolina – cemitério
- (B) Hábito – iate – hélice – úmido
- (C) Artíficio – femenino – chefiar – inclinar
- (D) Nódoa – moleque – costume – engulir

QUESTÃO 3

Assinale a alternativa em que há palavras grafadas de maneira ERRADA:

- (A) Acesso – concessão – profissional – sucessivo
- (B) Fascinar – opressão – cresça – trouxe
- (C) Excessivo – remorso – cansado – necessário
- (D) Anoitecer – excelência – dissernir – expressão

QUESTÃO 4

Assinale o grupo de palavras que estão acentuadas corretamente:

- (A) Júri – bênção – ânsia – sábio
- (B) Chapéu – dói – país – mes
- (C) Fiéis – órgão – lógico – inumeros
- (D) Lâmpada – hífen – baú – juiz

Assinale a alternativa cujo superlativo está errado:

QUESTÃO 5

- (A) Comum – comuníssimo
- (B) Provável – probabilíssimo
- (C) Pobre – paupérrimo
- (D) Difícil – difícilíssimo

Assinale a alternativa que representa, na ordem, o tipo de frase:

QUESTÃO 6

- I. Sabe quando ela vai chegar?
- II. Quanta sorte você tem!
- III. Cale-se! Você não sabe de nada.
- IV. A reforma da escola está quase pronta.

- (A) interrogativa – exclamativa – imperativa – declarativa
- (B) interrogativa – exclamativa – declarativa – imperativa
- (C) interrogativa – imperativa – exclamativa – declarativa
- (D) interrogativa – imperativa – imperativa – declarativa

Este ano tive quinze dias de férias. O numeral destacado na frase é:

QUESTÃO 7

- (A) Ordinal
- (B) Multiplicativo
- (C) Cardinal
- (D) Fracionário

QUESTÃO 8

Assinale a alternativa que contém um substantivo feminino:

- (A) Tapa
- (B) Guaraná
- (C) Formicida
- (D) Dinamite

QUESTÃO 9

Assinale a alternativa com sufixo diminutivo:

- (A) Burrico
- (B) Povaréu
- (C) Barcaça
- (D) Bocarra

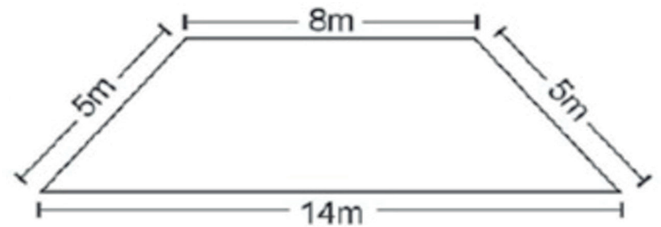
QUESTÃO 10

Assinale a alternativa em que a colocação pronominal está ERRADA:

- (A) Maria era uma menina cheia de si.
- (B) Não vá sem mim.
- (C) Traga o livro para mim ler.
- (D) Não nos preocupemos.

MATEMÁTICA**QUESTÃO 1**

Um agricultor do interior de Santa Catarina decidiu cercar um terreno o qual possui as dimensões conforme a figura abaixo:



Sabendo-se que esse agricultor dispõe de 144m de arame farpado, quantos terrenos iguais a esse ele poderá cercar?

- (A) 3,5.
- (B) 4.
- (C) 4,5.
- (D) 5.

QUESTÃO 2

A lanchonete da Escola "Amanhecer Vivendo" oferece a seus alunos uma grande variedade de lanches, como: pastéis, folhados, bolinhos de carne, cachorros-quentes, entre outros. Para fazer os bolinhos de carne são necessários 150 gramas de carne moída para cada um. A lanchonete vende, em média, 42 bolinhos de carne por dia. Então, para fazer somente esses bolinhos, a quantidade de carne necessária que ele precisa comprar por dia é de:

- (A) 4 Kg.
- (B) 4,8 Kg.
- (C) 5,5 Kg.
- (D) 6,3 Kg.

QUESTÃO 3

Para uma festa de aniversário, foram compradas 4 coca colas de 2 litros cada; para servir esse refrigerante foram usados copos de 250 ml cada um. Então, a quantidade de copos cheios da referida bebida que poderão ser servidos é igual a:

- (A) 8.
- (B) 16.
- (C) 24.
- (D) 32.

QUESTÃO 4

Um hotel do centro de uma cidade do Rio de Janeiro possui 12 andares; em cada andar há 4 apartamentos e cada apartamento possui 3 quartos. Após um determinado feriado, no qual esse hotel esteve lotado, uma camareira teve que trocar todos os lençóis, os quais seriam lavados. Assim, nesse dia, a quantidade de lençóis lavados foi de:

- (A) 36.
- (B) 48.
- (C) 84.
- (D) 144.

QUESTÃO 5

Em um determinado terminal de ônibus de uma grande cidade brasileira três empresas: A, B e C saíram juntas em direção ao centro da cidade. A empresa A tem ônibus de 10 em 10 minutos; a empresa B, de 15 em 15 minutos e a empresa C, de 25 em 25 minutos. Sabendo-se que esses ônibus saíram juntos às 8h30 da manhã, depois de quanto tempo essas empresas voltarão a se encontrar?

- (A) 150 minutos.
- (B) 180 minutos.
- (C) 200 minutos.
- (D) 250 minutos.



QUESTÃO 6

Nas olimpíadas, um dos maiores eventos esportivos da Terra, muitas são as modalidades em disputa, as quais distribuem medalhas de ouro, prata e bronze. Para o desempate no quadro geral de medalhas temos os seguintes critérios:

- 1º critério: maior quantidade de medalhas de ouro.
- 2º critério: maior quantidade de medalhas de prata.
- 3º critério: maior quantidade de medalhas de bronze.

Observando o quadro geral de medalhas das olimpíadas de 2008 na China, podemos afirmar que se o Brasil tivesse conquistado mais 7 medalhas de ouro e mais 8 medalhas de prata a sua nova colocação seria a:

QUADRO DE MEDALHAS

| | País | Ouro | Prata | Bronze | Total |
|----|---|------|-------|--------|-------|
| 1 |  China | 35 | 13 | 13 | 61 |
| 2 |  EUA | 19 | 21 | 25 | 65 |
| 3 |  Reino Unido | 11 | 6 | 8 | 25 |
| 4 |  Alemanha | 9 | 6 | 7 | 22 |
| 5 |  Austrália | 8 | 10 | 11 | 29 |
| 6 |  Coreia do Sul | 8 | 9 | 5 | 22 |
| 7 |  Japão | 8 | 5 | 7 | 20 |
| 8 |  Rússia | 7 | 12 | 11 | 30 |
| 9 |  Itália | 6 | 6 | 6 | 18 |
| 10 |  Ucrânia | 5 | 3 | 6 | 14 |
| 36 |  Brasil | 1 | 0 | 4 | 5 |

Por Rafael Menezes

- (A) 5ª posição.
- (B) 6ª posição.
- (C) 7ª posição.
- (D) 8ª posição.

QUESTÃO 7

O resultado da expressão numérica $4 \times 20 : 5 - 2$ é igual a:

- (A) 8.
- (B) 10.
- (C) 14.
- (D) 18.

QUESTÃO 8

Um determinado pintor consegue pintar 8m² de parede com 1,5 litro de tinta. Então, para pintar uma casa que tenha 200m² serão necessários:

- (A) 30 litros de tinta.
- (B) 37,5 litros de tinta.
- (C) 46 litros de tinta.
- (D) 52,5 litros de tinta.

QUESTÃO 9

Hoje, uma mãe e uma filha têm juntas 40 anos. Sabe-se que a idade da filha é a quinta parte da idade da mãe. Assim, quando a mãe tiver 38 anos, a idade da filha será de:

- (A) 10 anos.
- (B) 12 anos.
- (C) 14 anos.
- (D) 16 anos.

QUESTÃO 10

A loja Preço Pequeno está com uma super promoção de final de ano. Tudo com 12% de desconto à vista. João decidiu comprar uma TV de 40 polegadas que na etiqueta custa R\$ 1.540,00. Qual o preço dessa TV se João resolver comprar ela à vista?

- (A) R\$ 1.355,20.
- (B) R\$ 1.420,00.
- (C) R\$ 1.478,00.
- (D) R\$ 1.528,00.

LEGISLAÇÃO**QUESTÃO 1**

O Município de Erval Velho foi criado pela Lei n. 889, de 18 de junho de 1963, tendo sido desmembrado do Município de:

- (A) Capinzal.
- (B) Joaçaba.
- (C) Campos Novos.
- (D) Herval d'Oeste.

QUESTÃO 2

A principal atividade econômica de Erval Velho é a/o:

- (A) agricultura.
- (B) comércio.
- (C) indústria.
- (D) prestação de serviços.

QUESTÃO 3

A divisa de Erval Velho com Campos Novos é marcada pelo:

- (A) Rio Erval.
- (B) Rio Leão.
- (C) Rio do Peixe.
- (D) Rio Arco Verde.

QUESTÃO 4

A colonização de Erval Velho ocorreu, predominantemente, por:

- (A) austríacos.
- (B) portugueses.
- (C) alemães.
- (D) italianos.

QUESTÃO 5

Segundo o Estatuto dos Servidores Públicos do Município de Erval Velho, o servidor nomeado para cargo de provimento efetivo ficará sujeito a estágio probatório por período de:

- (A) três anos, contados da data de sua entrada em exercício.
- (B) dois anos, contados da data de sua entrada em exercício.
- (C) três anos, contados da data da realização do concurso.
- (D) um ano, contado da data de sua entrada em exercício.

QUESTÃO 6

Segundo o Estatuto dos Servidores Públicos do Município de Erval Velho, é correto afirmar que é dever do servidor público:

- (A) ausentar-se do serviço durante o expediente, sem prévia autorização do chefe imediato.
- (B) receber propina, comissão, presente ou vantagem de qualquer espécie, em razão de suas atribuições.
- (C) promover manifestação de apreço ou desapeço no recinto da repartição.
- (D) ser assíduo e pontual ao serviço.

QUESTÃO 7

Segundo o Estatuto dos Servidores Públicos do Município de Erval Velho, o servidor NÃO pode tirar a seguinte licença:

- (A) Para tratamento de saúde.
- (B) Para atividade política.
- (C) Para estudo no estrangeiro.
- (D) Para tratar de interesses particulares.

QUESTÃO 8

Segundo o Estatuto dos Servidores Públicos do Município de Erval Velho, o servidor terá direito a ausentar-se do trabalho sem desconto da remuneração para:

- (A) falecimento de cônjuge pelo prazo de 30 dias.
- (B) casamento do irmão pelo prazo de 5 dias.
- (C) falecimento dos pais pelo prazo de 5 dias.
- (D) doação de sangue pelo prazo de 3 dias.

QUESTÃO 9

Segundo a Lei Orgânica do Município de Erval Velho, é atribuição privativa da Câmara de Vereadores:

- (A) representar o Município em juízo e fora dele.
- (B) fiscalizar e controlar, diretamente, os atos do Poder Executivo, incluindo os da administração indireta.
- (C) vetar projetos de lei, total ou parcialmente.
- (D) decretar calamidades públicas quando ocorrerem fatos que a justifiquem.

QUESTÃO 10

Segundo a Lei Orgânica do Município de Erval Velho, a formalização dos atos administrativos da competência do Prefeitos far-se-á mediante:

- (A) Decreto e Portaria.
- (B) Decreto e Medida Provisória.
- (C) Portaria e Instrução Normativa.
- (D) Lei e Portaria.

CONHECIMENTO ESPECÍFICO**QUESTÃO 1**

Em caso de acidentes de trânsito com vítimas, entre as ações de primeiros socorros a seguir, qual você **NÃO** deve fazer?

- (A) Manter a calma.
- (B) Garantir a segurança.
- (C) Sacudir e movimentar a vítima.
- (D) Pedir socorro.

QUESTÃO 2

Dirigir defensivamente significa completar o percurso sem desrespeito às normas e regras de trânsito, evitando acidentes. Atitudes do condutor que caracterizam direção defensiva:

- (A) Utilizar telefone celular no modo viva voz.
- (B) Observar as informações no painel, como velocidade, e observar os retrovisores.
- (C) Consumir bebidas alcoólicas.
- (D) Ouvir aparelho de som em volume que não permita ouvir o som do próprio veículo e dos demais.

QUESTÃO 3

Ao chegar em um cruzamento, um operário depara-se com a seguinte placa. Que atitude ele deve tomar?



- (A) Seguir em frente, pois a preferência é sua.
- (B) Parar e verificar se há veículos passando, pois a preferência é dos outros.
- (C) Virar à direita após sinalizar com o pisca.
- (D) Parar e esperar o sinal ficar verde.

QUESTÃO 4

Para efetuar aberturas de estradas, fazer a limpeza e a regularização das camadas, utiliza-se o equipamento apresentado a seguir. Entre os itens mencionados, qual é o nome desse equipamento?



- (A) Retroescavadeira. (B) Trator de esteira.
- (C) Motoniveladora. (D) Vibroacabadora.

QUESTÃO 5

Durante um serviço de retirada de árvores para a execução de uma terraplenagem, aconteceu um imprevisto. Um dos operários foi atingido por um galho de árvore. Que procedimento deve ser tomado, referente ao primeiro socorro?

- (A) Retirar o galho e chamar equipe especializada, sem movimentar o acidentado.
- (B) Retirar o galho, colocar o acidentado dentro de um carro e levar ao hospital.
- (C) Deixar o galho sobre o acidentado e chamar equipe especializada.
- (D) Utilizar álcool para acordar o acidentado, além de tentar movimentá-lo.

QUESTÃO 6

Ao utilizar maquinário em obras, para a segurança dos operários que estão trabalhando próximo ao equipamento, há alguns sinais necessários para indicar o que o condutor do equipamento está fazendo. Quando ocorrer vários bipes seguidos, indica que o equipamento está:

- (A) se deslocando para a frente em direção ao obstáculo.
- (B) trabalhando acima da rotação especificada.
- (C) se deslocando para trás.
- (D) trabalhando com a porta aberta.

QUESTÃO 7

Sobre direção defensiva, assinale a alternativa CORRETA:

- (A) O motorista pode dirigir falando ao celular e com apenas uma das mãos.
- (B) Em cruzamentos com rótulas, a velocidade máxima permitida é de 110 km/h.
- (C) O condutor deve sempre estar em boas condições físicas e psíquicas para conduzir o veículo, além conter habilitação específica.
- (D) Sempre que necessário, deve efetuar paradas bruscas e manobras arriscadas sobre a pista.

QUESTÃO 8

A classificação dos tratores agrícolas pode ser feita segundo alguns critérios e descrições. Baseando-se na descrição: "Os tratores são máquinas especialmente destinadas às operações de movimentação e transporte de materiais em atividades de escavação, carregamento, compactação, transporte, tração, estocagem e terraplenagem. Esses tratores caracterizam-se por apresentarem bitola fixa, conversor de torque, caixa de marchas especial, tração nas quatro rodas. Sua estrutura é adequada para a montagem de pás carregadoras e retroescavadoras." Assinale a opção que indica o tipo de trator ao qual o texto se refere:

- (A) Trator de quatro rodas.
- (B) Trator de esteira.
- (C) Trator de duas rodas.
- (D) Trator industrial.

QUESTÃO 9

A sinalização vertical de regulamentação tem por finalidade transmitir aos usuários condições, proibições, obrigações ou restrições no uso das vias urbanas e rurais. NÃO faz parte das sinalizações verticais o que consta na alternativa:

- (A) Semáforo.
- (B) Placa indicativa de velocidade máxima permitida.
- (C) Placa indicativa de conversão à esquerda.
- (D) Faixa contínua.

QUESTÃO 10

É sumamente importante a manutenção dos equipamentos para que não haja eventuais paralisações, com prejuízos para a programação físico-financeira. Portanto, é de suma importância a intervenção em obras e dias programados, com a intenção de prevenir defeitos, corrigir vazamentos ou substituir peças cuja vida útil está por vencer. Para isso, faz-se necessário um controle efetivo das horas operadas. A essa intervenção, atribui-se o nome de:

- (A) manutenção corretiva.
- (B) manutenção preventiva.
- (C) manutenção eventual.
- (D) manutenção emergencial.