



CONCURSO PÚBLICO PREFEITURA MUNICIPAL DE ERVAL VELHO

CADERNO DE PROVA DE LÍNGUA PORTUGUESA, MATEMÁTICA, LEGISLAÇÃO E CONHECIMENTO ESPECÍFICO

MOTORISTA

LEIA COM ATENÇÃO AS ORIENTAÇÕES ABAIXO:

- Você recebeu do fiscal de sala o material: caderno de prova e cartão-resposta.
 - A prova terá duração de 3 (três) horas incluindo o tempo de preenchimento do CARTÃO-RESPOSTA.
 - O prazo mínimo de permanência em sala é de 1 (uma) hora.
 - Autorizado o início da prova, verifique se este caderno contém questões objetivas de conhecimentos específicos, conhecimentos gerais, matemática e de língua portuguesa, conforme edital. Verifique se o material está em ordem e se o seu nome, CPF e número de inscrição conferem com os que aparecem no CARTÃO-RESPOSTA. Caso contrário comunique imediatamente o fiscal.
 - Todas as questões da prova são de múltipla escolha. Para cada uma das questões objetivas, são apresentadas quatro alternativas (A, B, C ou D) e somente uma corresponde à alternativa correta.
- Assinale UMA RESPOSTA: a marcação em mais de uma alternativa anula a questão, mesmo que uma das respostas esteja correta.
- No CARTÃO-RESPOSTA, a marcação das letras que correspondem às respostas corretas deve ser realizada com caneta esferográfica de tinta preta ou azul, de forma contínua e densa cobrindo todo o espaço compreendido pelos círculos. A Leitora Óptica é sensível a marcas escuras, portanto preencha os campos de marcação completamente. Exemplo: ●
 - CUIDADO COM O CARTÃO-RESPOSTA: não risque, não amasse, não dobre, não suje, pois ele é insubstituível.
 - SERÁ ELIMINADO DO CONCURSO PÚBLICO o candidato que:
 - a) durante a realização da prova utilizar, relógio, telefone celular, qualquer tipo de equipamento eletrônico ou fontes de consultas de qualquer espécie;
 - b) se ausentar da sala de prova levando consigo o CADERNO DE PROVA e/ou o CARTÃO-RESPOSTA;
 - c) se recusar a entregar o CADERNO DE PROVA e/ou CARTÃO-RESPOSTA, quando terminar o tempo estabelecido;
 - d) manter ou tentar manter qualquer tipo de comunicação com outros candidatos.
 - Os fiscais não estarão autorizados a emitir opinião, nem prestar esclarecimentos sobre o conteúdo das provas. Cabe, exclusivamente, ao candidato interpretar o enunciado da questão e decidir a resposta.
 - Ao terminar a prova, entregue ao fiscal de sala o CADERNO DE PROVA E O CARTÃO-RESPOSTA e ASSINE A LISTA DE PRESENÇA. Está permitido levar apenas o rascunho do gabarito que encontra-se na última página do caderno de prova.
 - Após a realização da prova o candidato deverá imediatamente sair das instalações físicas do local da prova.
 - Os últimos três candidatos deverão entregar simultaneamente o cartão resposta e o caderno de provas, em seguida assinarão a ata, a(s) relação(ões) de confirmação de presença dos candidatos daquela sala e rubricarão, no verso, o envelope dos cartões respostas dos candidatos que prestaram prova na respectiva sala.
 - Na hipótese de ocorrer anulação de questões, estas serão consideradas como respondidas corretamente por todos os candidatos.
 - O gabarito da prova estará disponível em 21/12/2014, a partir das 17h, na página da Prefeitura Municipal de Erval Velho/SC (www.ervavelho.sc.gov.br) e na página da Unoesc(www.unoesc.edu.br).

LÍNGUA PORTUGUESA**QUESTÃO 1**

Assinale a alternativa em que a divisão silábica de todas as palavras está CORRETA:

- (A) Sub-lo-car, ex-clu-ir, du-e-lo, U-ru-guai-a-na
- (B) Gue-rra, pre-en-cher, bí-ceps, te-sou-ro
- (C) Cau-le, de-sa-ten-to, di-g-no, pe-guei
- (D) Cres-ço, ca-o-lho, sub-es-ti-mar, gai-o-la

QUESTÃO 2

Assinale a alternativa em que todas as palavras estão grafadas corretamente:

- (A) Empecilho – umedecer – criolina – cemitério
- (B) Hábito – iate – hélice – úmido
- (C) Artíficio – femenino – chefiar – inclinar
- (D) Nódoa – moleque – costume – engulir

QUESTÃO 3

Assinale a alternativa em que há palavras grafadas de maneira ERRADA:

- (A) Acesso – concessão – profissional – sucessivo
- (B) Fascinar – opressão – cresça – trouxe
- (C) Excessivo – remorso – cansado – necessário
- (D) Anoitecer – excelência – dissernir – expressão

QUESTÃO 4

Assinale o grupo de palavras que estão acentuadas corretamente:

- (A) Júri – bênção – ânsia – sábio
- (B) Chapéu – dói – país – mes
- (C) Fiéis – órgão – lógico – inumeros
- (D) Lâmpada – hífen – baú – juíz

QUESTÃO 5

Assinale a alternativa cujo superlativo está errado:

- (A) Comum – comuníssimo
- (B) Provável – probabilíssimo
- (C) Pobre – paupérrimo
- (D) Difícil – difícilíssimo

QUESTÃO 6

Assinale a alternativa que representa, na ordem, o tipo de frase:

- I. Sabe quando ela vai chegar?
- II. Quanta sorte você tem!
- III. Cale-se! Você não sabe de nada.
- IV. A reforma da escola está quase pronta.

- (A) interrogativa – exclamativa – imperativa – declarativa
- (B) interrogativa – exclamativa – declarativa – imperativa
- (C) interrogativa – imperativa – exclamativa – declarativa
- (D) interrogativa – imperativa – imperativa – declarativa

QUESTÃO 7

Este ano tive quinze dias de férias. O numeral destacado na frase é:

- (A) Ordinal
- (B) Multiplicativo
- (C) Cardinal
- (D) Fracionário

QUESTÃO 8

Assinale a alternativa que contém um substantivo feminino:

- (A) Tapa
- (B) Guaraná
- (C) Formicida
- (D) Dinamite

QUESTÃO 9

Assinale a alternativa com sufixo diminutivo:

- (A) Burrico
- (B) Povaréu
- (C) Barcaça
- (D) Bocarra

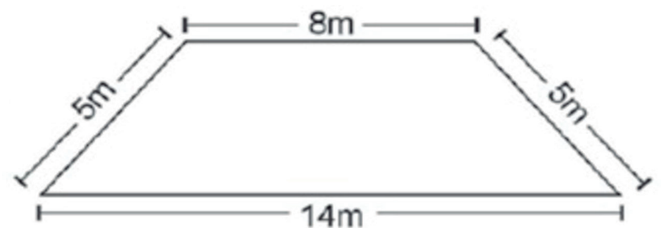
QUESTÃO 10

Assinale a alternativa em que a colocação pronominal está ERRADA:

- (A) Maria era uma menina cheia de si.
- (B) Não vá sem mim.
- (C) Traga o livro para mim ler.
- (D) Não nos preocupemos.

MATEMÁTICA**QUESTÃO 1**

Um agricultor do interior de Santa Catarina decidiu cercar um terreno o qual possui as dimensões conforme a figura abaixo:



Sabendo-se que esse agricultor dispõe de 144m de arame farpado, quantos terrenos iguais a esse ele poderá cercar?

- (A) 3,5.
- (B) 4.
- (C) 4,5.
- (D) 5.

QUESTÃO 2

A lanchonete da Escola "Amanhecer Vivendo" oferece a seus alunos uma grande variedade de lanches, como: pastéis, folhados, bolinhos de carne, cachorros-quentes, entre outros. Para fazer os bolinhos de carne são necessários 150 gramas de carne moída para cada um. A lanchonete vende, em média, 42 bolinhos de carne por dia. Então, para fazer somente esses bolinhos, a quantidade de carne necessária que ele precisa comprar por dia é de:

- (A) 4 Kg.
- (B) 4,8 Kg.
- (C) 5,5 Kg.
- (D) 6,3 Kg.

QUESTÃO 3

Para uma festa de aniversário, foram compradas 4 coca colas de 2 litros cada; para servir esse refrigerante foram usados copos de 250 ml cada um. Então, a quantidade de copos cheios da referida bebida que poderão ser servidos é igual a:

- (A) 8.
- (B) 16.
- (C) 24.
- (D) 32.

QUESTÃO 4

Um hotel do centro de uma cidade do Rio de Janeiro possui 12 andares; em cada andar há 4 apartamentos e cada apartamento possui 3 quartos. Após um determinado feriado, no qual esse hotel esteve lotado, uma camareira teve que trocar todos os lençóis, os quais seriam lavados. Assim, nesse dia, a quantidade de lençóis lavados foi de:

- (A) 36.
- (B) 48.
- (C) 84.
- (D) 144.

QUESTÃO 5

Em um determinado terminal de ônibus de uma grande cidade brasileira três empresas: A, B e C saíram juntas em direção ao centro da cidade. A empresa A tem ônibus de 10 em 10 minutos; a empresa B, de 15 em 15 minutos e a empresa C, de 25 em 25 minutos. Sabendo-se que esses ônibus saíram juntos às 8h30 da manhã, depois de quanto tempo essas empresas voltarão a se encontrar?

- (A) 150 minutos.
- (B) 180 minutos.
- (C) 200 minutos.
- (D) 250 minutos.



QUESTÃO 6

Nas olimpíadas, um dos maiores eventos esportivos da Terra, muitas são as modalidades em disputa, as quais distribuem medalhas de ouro, prata e bronze. Para o desempate no quadro geral de medalhas temos os seguintes critérios:

- 1º critério: maior quantidade de medalhas de ouro.
- 2º critério: maior quantidade de medalhas de prata.
- 3º critério: maior quantidade de medalhas de bronze.

Observando o quadro geral de medalhas das olimpíadas de 2008 na China, podemos afirmar que se o Brasil tivesse conquistado mais 7 medalhas de ouro e mais 8 medalhas de prata a sua nova colocação seria a:

QUADRO DE MEDALHAS

	País	Ouro	Prata	Bronze	Total
1	 China	35	13	13	61
2	 EUA	19	21	25	65
3	 Reino Unido	11	6	8	25
4	 Alemanha	9	6	7	22
5	 Austrália	8	10	11	29
6	 Coreia do Sul	8	9	5	22
7	 Japão	8	5	7	20
8	 Rússia	7	12	11	30
9	 Itália	6	6	6	18
10	 Ucrânia	5	3	6	14
36	 Brasil	1	0	4	5

Por Rafael Menezes

- (A) 5ª posição.
- (B) 6ª posição.
- (C) 7ª posição.
- (D) 8ª posição.

QUESTÃO 7

O resultado da expressão numérica $4 \times 20 : 5 - 2$ é igual a:

- (A) 8.
- (B) 10.
- (C) 14.
- (D) 18.

QUESTÃO 8

Um determinado pintor consegue pintar 8m² de parede com 1,5 litro de tinta. Então, para pintar uma casa que tenha 200m² serão necessários:

- (A) 30 litros de tinta.
- (B) 37,5 litros de tinta.
- (C) 46 litros de tinta.
- (D) 52,5 litros de tinta.

QUESTÃO 9

Hoje, uma mãe e uma filha têm juntas 40 anos. Sabe-se que a idade da filha é a quinta parte da idade da mãe. Assim, quando a mãe tiver 38 anos, a idade da filha será de:

- (A) 10 anos.
- (B) 12 anos.
- (C) 14 anos.
- (D) 16 anos.

QUESTÃO 10

A loja Preço Pequeno está com uma super promoção de final de ano. Tudo com 12% de desconto à vista. João decidiu comprar uma TV de 40 polegadas que na etiqueta custa R\$ 1.540,00. Qual o preço dessa TV se João resolver comprar ela à vista?

- (A) R\$ 1.355,20.
- (B) R\$ 1.420,00.
- (C) R\$ 1.478,00.
- (D) R\$ 1.528,00.

LEGISLAÇÃO**QUESTÃO 1**

O Município de Erval Velho foi criado pela Lei n. 889, de 18 de junho de 1963, tendo sido desmembrado do Município de:

- (A) Capinzal.
- (B) Joaçaba.
- (C) Campos Novos.
- (D) Herval d'Oeste.

QUESTÃO 2

A principal atividade econômica de Erval Velho é a/o:

- (A) agricultura.
- (B) comércio.
- (C) indústria.
- (D) prestação de serviços.

QUESTÃO 3

A divisa de Erval Velho com Campos Novos é marcada pelo:

- (A) Rio Erval.
- (B) Rio Leão.
- (C) Rio do Peixe.
- (D) Rio Arco Verde.

QUESTÃO 4

A colonização de Erval Velho ocorreu, predominantemente, por:

- (A) austríacos.
- (B) portugueses.
- (C) alemães.
- (D) italianos.

QUESTÃO 5

Segundo o Estatuto dos Servidores Públicos do Município de Erval Velho, o servidor nomeado para cargo de provimento efetivo ficará sujeito a estágio probatório por período de:

- (A) três anos, contados da data de sua entrada em exercício.
- (B) dois anos, contados da data de sua entrada em exercício.
- (C) três anos, contados da data da realização do concurso.
- (D) um ano, contado da data de sua entrada em exercício.

QUESTÃO 6

Segundo o Estatuto dos Servidores Públicos do Município de Erval Velho, é correto afirmar que é dever do servidor público:

- (A) ausentar-se do serviço durante o expediente, sem prévia autorização do chefe imediato.
- (B) receber propina, comissão, presente ou vantagem de qualquer espécie, em razão de suas atribuições.
- (C) promover manifestação de apreço ou desapreço no recinto da repartição.
- (D) ser assíduo e pontual ao serviço.

QUESTÃO 7

Segundo o Estatuto dos Servidores Públicos do Município de Erval Velho, o servidor NÃO pode tirar a seguinte licença:

- (A) Para tratamento de saúde.
- (B) Para atividade política.
- (C) Para estudo no estrangeiro.
- (D) Para tratar de interesses particulares.

QUESTÃO 8

Segundo o Estatuto dos Servidores Públicos do Município de Erval Velho, o servidor terá direito a ausentar-se do trabalho sem desconto da remuneração para:

- (A) falecimento de cônjuge pelo prazo de 30 dias.
- (B) casamento do irmão pelo prazo de 5 dias.
- (C) falecimento dos pais pelo prazo de 5 dias.
- (D) doação de sangue pelo prazo de 3 dias.

QUESTÃO 9

Segundo a Lei Orgânica do Município de Erval Velho, é atribuição privativa da Câmara de Vereadores:

- (A) representar o Município em juízo e fora dele.
- (B) fiscalizar e controlar, diretamente, os atos do Poder Executivo, incluindo os da administração indireta.
- (C) vetar projetos de lei, total ou parcialmente.
- (D) decretar calamidades públicas quando ocorrerem fatos que a justifiquem.

QUESTÃO 10

Segundo a Lei Orgânica do Município de Erval Velho, a formalização dos atos administrativos da competência do Prefeitos far-se-á mediante:

- (A) Decreto e Portaria.
- (B) Decreto e Medida Provisória.
- (C) Portaria e Instrução Normativa.
- (D) Lei e Portaria.

CONHECIMENTO ESPECÍFICO**QUESTÃO 1**

A placa de trânsito apresentada representa a obrigatoriedade de o motorista:



- (A) parar no acostamento.
- (B) passar ao lado de um obstáculo.
- (C) virar à direita.
- (D) virar à esquerda.

QUESTÃO 2

Sobre infrações de trânsito, assinale a alternativa **INCORRETA**:

- (A) Se o motorista atingir 20 pontos terá sua carteira de habilitação suspensa.
- (B) Estacionar afastado mais de 50 centímetros da calçada é considerado infração.
- (C) Dirigir em rodovias com velocidade superior à máxima permitida, em mais de 20%, tem como consequência, além das penalidades (multa e suspensão do direito de dirigir), o recolhimento do documento de habilitação (medida administrativa).
- (D) Não acionar a seta para a conversão é considerada uma atitude normal, sem perigo de multa.

QUESTÃO 3

Os pneus têm três funções importantes: impulsionar, frear e manter a dirigibilidade do veículo. Entre as alternativas a seguir, assinale a **CORRETA**:

- (A) Pneus murchos têm sua vida útil diminuída, prejudicam a estabilidade, aumentam o consumo de combustível, mas não reduzem a aderência ao piso com água.
- (B) A função dos sulcos é permitir o escoamento da água para garantir perfeita aderência ao piso e a segurança, em caso de piso molhado.
- (C) É possível utilizar pneus de modelo ou dimensões diferentes das recomendadas pelo fabricante, pois o tamanho não influencia na estabilidade e no desgaste dos componentes da suspensão.
- (D) O pneu sobressalente, chamado de estepe, não precisa seguir as recomendações, porque na maior parte do tempo ele fica guardado.

QUESTÃO 4

Direção defensiva é o conjunto de medidas e procedimentos utilizados para prevenir ou minimizar as consequências dos acidentes de trânsito. Analise as frases sobre os cuidados que devemos ter nas estradas e assinale a alternativa **INCORRETA**:

- (A) O transporte de crianças menores de 10 anos deve ser feito apenas no banco traseiro, acomodadas em dispositivo de retenção afixado ao cinto de segurança. Alguns veículos não possuem banco traseiro. Excepcionalmente, e somente nesses casos, é possível transportar crianças menores de 10 anos no banco dianteiro, utilizando cinto de segurança e cadeira apropriada observando-se a idade da criança.
- (B) Sob neblina ou cerração, o motorista deve imediatamente acender a luz alta do farol (e o farol de neblina, se tiver), aumentar a distância do veículo a sua frente e reduzir a velocidade, até sentir mais segurança e conforto.
- (C) Em condições normais da pista e do clima, o tempo necessário para manter a distância segura é de, aproximadamente, dois segundos.
- (D) Havendo sinalização por semáforo, o condutor deve fazer a passagem sob a luz verde. Sob a luz amarela, o condutor deve reduzir a marcha e parar. Sob a luz amarela, somente se deve fazer a travessia se já tiver entrado no cruzamento ou se essa condição for a mais segura para impedir que o veículo que vem atrás colida com o seu.

QUESTÃO 5

Você está dirigindo e encontra um acidente. Assinale a alternativa que apresenta uma ação que você **NÃO** deve fazer nessa situação:

- (A) Parar e verificar a situação das vítimas.
- (B) Movimentar a vítima e dar algo para ela beber.
- (C) Pedir socorro.
- (D) Sinalizar o local do acidente.

QUESTÃO 6

Os candidatos poderão habilitar-se nas categorias de A a E, obedecendo ordem de acordo com o Código de Trânsito. Em relação às categorias, está INCORRETA a alternativa:

(A) Categoria B – condutor de veículo motorizado, não abrangido pela categoria A, cujo peso bruto total não exceda a três mil e quinhentos quilogramas e cuja lotação não exceda a oito lugares, excluído o do motorista.

(B) Categoria C – condutor de veículo motorizado utilizado em transporte de carga.

(C) Para se habilitar na categoria C, o condutor deverá estar habilitado, no mínimo, há um ano na categoria B e não ter cometido nenhuma infração grave ou gravíssima, ou ser reincidente em infrações médias, durante os últimos doze meses.

(D) Categoria E – condutor de veículo motorizado utilizado no transporte de passageiros, cuja lotação exceda a oito lugares, excluído o do motorista.

QUESTÃO 7

O Código de Trânsito Brasileiro define sinalização de trânsito como um conjunto de sinais de trânsito e dispositivos de segurança colocados na via pública com o objetivo de garantir sua utilização adequada, possibilitando melhor fluidez no trânsito e maior segurança dos veículos e pedestres que nela circulam. Placas que têm por finalidade informar aos usuários condições, proibições, obrigações ou restrições no uso das vias em que suas mensagens são imperativas e seu desrespeito constitui infração, são chamadas de:

(A) placas de advertência.

(B) placas de regulamentação.

(C) placas de indicação.

(D) placas de taxativas.

QUESTÃO 8

A placa a seguir indica:

(A) cruzamento de vias.

(B) interseção em cruz.

(C) indicação de hospital.

(D) entroncamento à direita.

**QUESTÃO 9**

Antes de assumir a direção, todo o motorista defensivo, ou seja, que pratica direção defensiva, deve cuidar da manutenção do seu carro e verificar se ele encontra-se em condições de circulação. Os defeitos mais comuns que podem causar acidentes, estão listados nas alternativas a seguir, EXCETO:

(A) Pneus gastos.

(B) Freios desregulados.

(C) Cintos de segurança regulados.

(D) Folga na direção.

QUESTÃO 10

Em caso de acidente de trânsito, até que a equipe especializada em primeiros socorros chegue para atendimento à vítima, você deve:

(A) movimentar uma vítima.

(B) evitar retirar capacetes de motociclistas.

(C) aplicar torniquetes para estancar hemorragias.

(D) dar alguma coisa para a vítima tomar.