



CONCURSO PÚBLICO
PREFEITURA MUNICIPAL ERVAL VELHO - SC

EDITAL N. 02/2017

CADERNO DE PROVAS
OPERADOR DE MÁQUINAS

ASSINATURA DO CANDIDATO

Execução:



OPERADOR DE MÁQUINAS

ORIENTAÇÕES GERAIS

LEIA COM ATENÇÃO AS ORIENTAÇÕES A SEGUIR:

- Você recebeu do fiscal de sala o material: caderno de provas e cartão-resposta.
- A prova terá duração de 3 (três) horas, incluindo o tempo de preenchimento do CARTÃO-RESPOSTA.
- O prazo mínimo de permanência em sala é de 1 (uma) hora.
- Autorizado o início da prova, verifique se este caderno contém questões objetivas de conhecimentos específicos, conforme solicitado no ato da inscrição, e questões de conhecimentos gerais, matemática e língua portuguesa. Verifique se o material está em ordem, e se o seu nome, CPF e número de inscrição conferem com os que aparecem no CARTÃO-RESPOSTA. Caso contrário, comunique imediatamente o fiscal.
- Ao terminar a conferência do Caderno de Provas, caso esteja incompleto ou tenha defeito, solicite ao fiscal de sala que o substitua, não cabendo reclamações posteriores nesse sentido. O candidato deverá verificar, ainda, se o cargo em que se inscreveu se encontra devidamente identificado no Caderno de Provas.
- Todas as questões da prova são de múltipla escolha. Para cada uma das questões objetivas, são apresentadas quatro alternativas (A, B, C, D) e somente uma delas corresponde à alternativa correta. Assinale UMA RESPOSTA; a marcação em mais de uma alternativa anula a questão, mesmo que uma das respostas esteja correta.
- No CARTÃO-RESPOSTA, a marcação das letras que correspondem às respostas corretas deve ser realizada com caneta esferográfica de tinta preta ou azul, de forma contínua e densa, cobrindo todo o espaço compreendido pelos círculos. A leitora óptica é sensível a marcas escuras, portanto, preencha os campos de marcação completamente. Exemplo: ●
- O preenchimento do CARTÃO-RESPOSTA é de inteira responsabilidade do candidato. Em hipótese alguma haverá substituição dele por erro do candidato.
- Não serão computadas questões não respondidas nem questões que contenham mais de uma resposta (mesmo que uma delas esteja correta), emenda ou rasura, ainda que legível.
- CUIDADO COM O CARTÃO-RESPOSTA: não risque, não amasse, não dobre, não suje, pois ele é insubstituível.
- SERÁ ELIMINADO DO CONCURSO PÚBLICO o candidato que, durante a realização das provas:
 - a) retirar-se do recinto da prova, durante sua realização, sem a devida autorização;
 - b) for surpreendido dando e/ou recebendo auxílio para a execução de quaisquer questões/itens das provas;
 - c) usar ou tentar usar meios fraudulentos e/ou ilegais para a sua realização;
 - d) utilizar-se de régua de cálculo, livros, calculadoras e/ou equipamento similar, dicionário, notas e/ou impressos que não forem expressamente permitidos, gravador, receptor e/ ou pagers, e/ou se comunicar com outro candidato;
 - e) faltar com a devida cortesia para com qualquer membro da equipe de aplicação das provas, autoridades presentes e/ou outros candidatos;
 - f) fizer anotação de informações relativas às suas respostas em qualquer outro meio que não o permitido neste Edital;
 - g) descumprir as instruções contidas no Caderno de Provas e no Cartão de Respostas;
 - h) recusar-se a entregar o Caderno de Provas e o Cartão de Respostas ao término do tempo destinado à sua realização;
 - i) ausentar-se da sala, a qualquer tempo, portando o Cartão de Respostas;
 - j) não permitir a coleta de sua assinatura ou não atender ao procedimento de coletar sua impressão digital;
 - k) perturbar, de qualquer modo, a ordem dos trabalhos, incorrendo em comportamento indevido;
 - l) for surpreendido portando ou fazendo uso de aparelho celular e/ ou quaisquer aparelhos eletrônicos durante a realização das provas, mesmo que o aparelho esteja desligado.
- Não será permitida, também, ao candidato, a utilização de telefone celular ao final das provas, enquanto estiver dentro da unidade de aplicação destas.
- Os fiscais não estarão autorizados a emitir opinião nem a prestar esclarecimentos sobre o conteúdo das provas. Cabe, exclusivamente, ao candidato interpretar o enunciado da questão e decidir a resposta.
- Ao terminar a prova, entregue ao fiscal de sala o CADERNO DE PROVA e o CARTÃO-RESPOSTA. Está permitido levar apenas o rascunho do gabarito que se encontra na última página do caderno de prova.
- Após a realização da prova o candidato deverá imediatamente sair das instalações físicas do local da prova, não sendo mais permitido o ingresso aos sanitários.
- Os três últimos candidatos permanecem em sala, pois deverão entregar as provas simultaneamente.
- Se do exame de recursos resultar anulação de item integrante de prova, a pontuação correspondente a esse item será atribuída a todos os candidatos, independentemente de terem recorrido.
- O gabarito preliminar da prova estará disponível em 28/01/2018, a partir das 17h, na página da Prefeitura Municipal de Erval Velho (<http://www.ervalvelho.sc.gov.br>) e na página da Unoesc (<http://unoesc.edu.br/>).

PORTUGUÊS**QUESTÃO 1**

Assinale a alternativa em que a acentuação da palavra está errada:

- (A) Estréia.
- (B) Lógico.
- (C) Bênção.
- (D) Pólen.

QUESTÃO 2

Assinale a alternativa que preenche corretamente os espaços da frase:

_____ Ricardo sempre chega atrasado? Ele não se organiza _____ não quer; não entendo o _____ de tanta reclamação sobre o horário.

- (A) Por que – porquê – porque
- (B) Porque – por que – porque
- (C) Por que – porque – porquê
- (D) Porque – por que – porquê

QUESTÃO 3

Dada a frase: “O navio chegou lentamente”, a palavra sublinhada é um:

- (A) advérbio de intensidade.
- (B) advérbio de tempo.
- (C) advérbio de lugar.
- (D) advérbio de modo.

QUESTÃO 4

“Vigésimo” é um numeral:

- (A) fracionário.
- (B) ordinal.
- (C) multiplicativo.
- (D) cardinal.

QUESTÃO 5

Relacione as colunas classificando o pronome em destaque e em seguida assinale a alternativa com a ordem correta:



- I. Isto não tem a menor importância.
- II. Faltam folhas no meu livro.
- III. Ninguém sabe a resposta.
- IV. Que dia é hoje?

- () Indefinido.
- () Interrogativo.
- () Demonstrativo.
- () Possessivo.

- (A) IV – III – I – II.
- (B) IV – II – I – III.
- (C) III – IV – I – II.
- (D) III – IV – II – I.

MATEMÁTICA**QUESTÃO 6**

Qual é o perímetro das duas figuras juntas a seguir?



Disponível em: <<https://www.todamateria.com.br/perimetro-do-retangulo/>>. Acesso em: 08 nov. 2017.

- (A) 22.
- (B) 39.
- (C) 44.
- (D) 50.

QUESTÃO 7

A fração $\frac{3}{5}$ é proporcional à qual das frações abaixo?

- (A) $\frac{1}{2}$.
 (B) $\frac{6}{10}$.
 (C) $\frac{3}{4}$.
 (D) $\frac{5}{8}$.

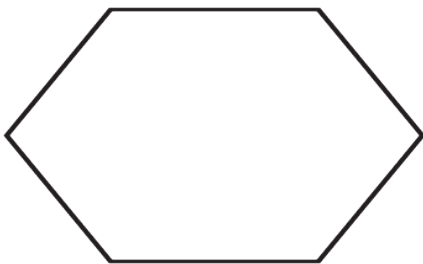
QUESTÃO 8

Determine a soma dos seguintes números: $2,14 + 0,265 + 3 + 12,04$:

- (A) 17,445.
 (B) 6,609.
 (C) 16,86.
 (D) 1,686.

QUESTÃO 9

Polígonos são figuras geométricas compostas por pelo menos três lados. Assim, qual é o nome do polígono a seguir:

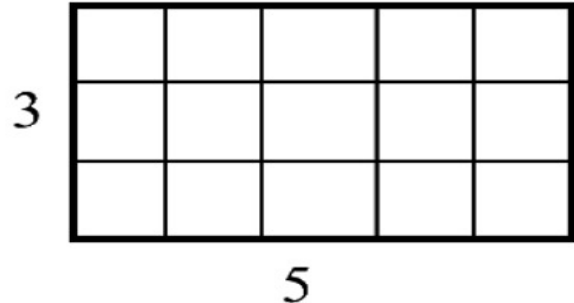


Disponível em: <<https://pt.wiktionary.org/wiki/hex%C3%A1gono>>. Acesso em: 07 nov. 2017.

- (A) Pentágono.
 (B) Hexágono.
 (C) Heptágono.
 (D) Eneágono.

QUESTÃO 10

Determine a área do retângulo a seguir e depois diga se o seu resultado é um número:



Disponível em: <<http://galileo.org/area-is-a-square-deal/>>. Acesso em: 07 nov. 2017.

- (A) Par.
 (B) Ímpar.
 (C) Nulo.
 (D) Primo.

CONHECIMENTOS GERAIS**QUESTÃO 11**

Erval Velho se emancipou do Município de:

- (A) Joaçaba.
 (B) Curitiba.
 (C) Campos Novos.
 (D) Herval d'Oeste.

QUESTÃO 12

Um dos cartões postais da Cidade de Erval Velho é a Igreja Matriz:

- (A) Santa Terezinha.
 (B) São Pedro.
 (C) São Paulo.
 (D) São Sebastião.

QUESTÃO 13

Na bandeira de Erval Velho predomina a cor:

- (A) Verde.
- (B) Vermelha.
- (C) Amarela.
- (D) Azul.

QUESTÃO 14

O último país a conseguir vaga na Copa do Mundo de futebol de 2018 foi:

- (A) Argentina.
- (B) Austrália.
- (C) Peru.
- (D) Itália.

QUESTÃO 15

Segundo o Estatuto do Servidor Público de Erval Velho, é preciso para investidura em cargo público a idade mínima de:

- (A) 18 anos.
- (B) 16 anos.
- (C) 21 anos.
- (D) 14 anos.

CONHECIMENTOS ESPECÍFICOS

QUESTÃO 16

De acordo com a NR 6 do Ministério do Trabalho e Emprego, toda "empresa é obrigada a fornecer aos empregados, gratuitamente, EPI adequado ao risco, em perfeito estado de conservação e funcionamento, nas seguintes circunstâncias":

- (A) Sempre que as medidas de ordem geral ofereçam algum tipo de risco de acidentes do trabalho, enquanto houver a implantação de medidas de proteção coletiva e para atender situações de emergência.
- (B) Sempre que o indivíduo apresente algum tipo de ferimento, para não contaminar o equipamento em que esteja trabalhando.
- (C) Em situações em que o local não apresente insalubridade.
- (D) Quando a proteção coletiva esteja satisfatória.

QUESTÃO 17

A habilitação para conduzir veículo automotor e elétrico será apurada por meio de exames que deverão ser realizados no órgão ou entidade executivos do Estado ou do Distrito Federal, do domicílio ou residência do candidato, ou na sede estadual ou distrital do próprio órgão. Os candidatos poderão habilitar-se nas categorias de A a E. A categoria em que o condutor pode conduzir veículo motorizado utilizado em transporte de carga, cujo peso bruto total exceda a 3.500 Kg, é:

- (A) Categoria D.
- (B) Categoria A.
- (C) Categoria B.
- (D) Categoria C.

QUESTÃO 18

Salvo na distância necessária a pequenas manobras e de forma a não causar riscos à segurança, qual a infração e penalidade impostas para transitar em marcha à ré?

- (A) Infração: gravíssima; Penalidade: multa e apreensão do veículo.
- (B) Infração: leve; Penalidade: advertência.
- (C) Infração: média; Penalidade: multa 12 vezes.
- (D) Infração: grave; Penalidade: multa.

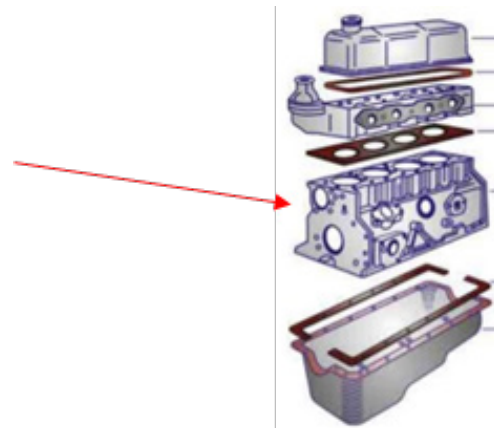
QUESTÃO 19

Placas que têm por finalidade alertar os usuários da via para condições potencialmente perigosas, indicando sua natureza, em que suas mensagens possuem caráter de recomendação são:

- (A) Placas de advertência.
- (B) Placas de regulamentação.
- (C) Placas de indicação.
- (D) Placas de turismo.

QUESTÃO 20

O motor é o componente do trator responsável pela transformação da energia dos combustíveis em energia mecânica (rotação). Qual é a parte fixa indicada no motor do desenho?



- (A) Carter.
- (B) Cabeçote.
- (C) Bloco.
- (D) Junta.

QUESTÃO 21

O óleo lubrificante tem as funções de reduzir o atrito e o desgaste dos componentes do motor, diminuir o aquecimento, melhorar a vedação, amortecer choques e auxiliar na limpeza. A classificação mais comum utilizada no Brasil é:

- (A) SAE, AIRT e ELT.
- (B) API, AIRT e SMA.
- (C) SAE, API e NLGI.
- (D) SAE, ELT e SMA.

QUESTÃO 22

O exame toxicológico busca aferir o consumo de substâncias psicoativas que, comprovadamente, comprometem a capacidade de direção, e deverá ter janela de detecção mínima de 90 dias, nos termos das normas do Contran. Quais as categorias que contemplam esse exame?

- (A) A, B e C.
- (B) B, C e E.
- (C) C, D e E.
- (D) C e D.

QUESTÃO 23

Falta de líquido de arrefecimento, água suja, radiador ou mangueira furados, bomba-d'água com vazamento, junta do cabeçote queimada e sobrecarga no motor são algumas das causas para:

- (A) Resfriamento do veículo trator.
- (B) Superaquecimento nos motores de tratores.
- (C) Liberação de gás urânio pelo escapamento.
- (D) Enchimento do motor por água.

QUESTÃO 24

Em manutenção mecânica, é comum serem usadas ferramentas de aperto e desaperto em parafusos e porcas. Para cada tipo de parafuso e porca, existe um tipo específico de chave. Em relação à fotografia apresentada abaixo, o nome é:



- (A) Chave Allen.
- (B) Chave combinada.
- (C) Chave de bater.
- (D) Chave Phillips.

QUESTÃO 25

Os tipos de graxa são classificados com base no sabão utilizado em sua fabricação. Por exemplo, a graxa à base de alumínio apresenta características macia, resistente à água, utilizada em mancais de rolamento de baixa velocidade e em chassis. Qual a classificação da graxa que apresenta características vaselinada, resistente à água, boa estabilidade estrutural e é utilizada em veículos automotivos e na aviação?

- (A) Graxa à base de sódio.
- (B) Graxa à base de lítio.
- (C) Graxa à base de cálcio.
- (D) Graxa à base de água.

QUESTÃO 26

Em cruzamentos, bem como em entradas e saídas de veículos, acontecem muitos acidentes, nesses casos, o condutor deve:

- (A) Ignorar a sinalização e sempre passar direito no cruzamento.
- (B) Aproximar-se do cruzamento com cuidado, mesmo tendo a preferência.
- (C) Ultrapassar nos cruzamentos ou nas proximidades.
- (D) Respeitar a preferência em cruzamentos com via férrea, que é do veículo.

QUESTÃO 27

Ao se deparar com um acidentado, imediatamente se deverá solicitar ajuda aos órgãos responsáveis. Ao solicitar socorro, deve-se informar:

- (A) O local e o tipo de acidente, descrição da vítima, se há vítima inconsciente e a gravidade dos ferimentos da vítima mais atingida.
- (B) O veículo, a placa, a identidade da pessoa e a condição climática.
- (C) O local, a origem do acidente, o causador e a gravidade dos ferimentos.
- (D) Descrição da vítima, pressão arterial, causador do acidente e gravidade dos ferimentos.

QUESTÃO 28

Veículos emitem gases nocivos ao meio ambiente, resultantes da queima do combustível. Entre os gases emitidos, o que apresenta maior destaque é:

- (A) H₂O.
- (B) N.
- (C) CO₂.
- (D) SO₃.

QUESTÃO 29

Proprietários e condutores devem manter seus veículos em níveis mínimos de emissão de gases, fumaça e ruídos. Os itens que devem ser verificados para não prejudicar o meio ambiente são:

- (A) Carburador, filtros, tanque de combustível e condições dos pneus e das engrenagens.
- (B) Carburador ou sistema de injeção, filtro de ar, escapamento, bobina, ignição eletrônica, distribuidor e velas.
- (C) Filtros, tanque de água, escapamento, teto solar e bateria.
- (D) Filtros, pneus, geometria, condições do combustível e retrovisores.

QUESTÃO 30

O ícone da figura a seguir no painel do veículo, ao ser acionado, indica:



- (A) Sistema de freio.
- (B) Temperatura do motor.
- (C) Falta de combustível.
- (D) Nível do óleo baixo.



CONCURSO PÚBLICO
PREFEITURA MUNICIPAL DE ERVAL VELHO - SC
EDITAL N. 02/2017

RASCUNHO

CONHECIMENTOS GERAIS | LÍNGUA PORTUGUESA

1-	2-	3-	4-	5-
----	----	----	----	----

CONHECIMENTOS GERAIS | MATEMÁTICA

6-	7-	8-	9-	10-
----	----	----	----	-----

CONHECIMENTOS GERAIS

11-	12-	13-	14-	15-
-----	-----	-----	-----	-----

CONHECIMENTOS ESPECÍFICOS

16-	19-	22-	25-	28-
17-	20-	23-	26-	29-
18-	21-	24-	27-	30-