



CONCURSO PÚBLICO
PREFEITURA MUNICIPAL ERVAL VELHO - SC

EDITAL N. 02/2017

CADERNO DE PROVAS
MOTORISTA

ASSINATURA DO CANDIDATO

Execução:



MOTORISTA

ORIENTAÇÕES GERAIS

LEIA COM ATENÇÃO AS ORIENTAÇÕES A SEGUIR:

- Você recebeu do fiscal de sala o material: caderno de provas e cartão-resposta.
- A prova terá duração de 3 (três) horas, incluindo o tempo de preenchimento do CARTÃO-RESPOSTA.
- O prazo mínimo de permanência em sala é de 1 (uma) hora.
- Autorizado o início da prova, verifique se este caderno contém questões objetivas de conhecimentos específicos, conforme solicitado no ato da inscrição, e questões de conhecimentos gerais, matemática e língua portuguesa. Verifique se o material está em ordem, e se o seu nome, CPF e número de inscrição conferem com os que aparecem no CARTÃO-RESPOSTA. Caso contrário, comunique imediatamente o fiscal.
- Ao terminar a conferência do Caderno de Provas, caso esteja incompleto ou tenha defeito, solicite ao fiscal de sala que o substitua, não cabendo reclamações posteriores nesse sentido. O candidato deverá verificar, ainda, se o cargo em que se inscreveu se encontra devidamente identificado no Caderno de Provas.
- Todas as questões da prova são de múltipla escolha. Para cada uma das questões objetivas, são apresentadas quatro alternativas (A, B, C, D) e somente uma delas corresponde à alternativa correta. Assinale UMA RESPOSTA; a marcação em mais de uma alternativa anula a questão, mesmo que uma das respostas esteja correta.
- No CARTÃO-RESPOSTA, a marcação das letras que correspondem às respostas corretas deve ser realizada com caneta esferográfica de tinta preta ou azul, de forma contínua e densa, cobrindo todo o espaço compreendido pelos círculos. A leitora óptica é sensível a marcas escuras, portanto, preencha os campos de marcação completamente. Exemplo: ●
- O preenchimento do CARTÃO-RESPOSTA é de inteira responsabilidade do candidato. Em hipótese alguma haverá substituição dele por erro do candidato.
- Não serão computadas questões não respondidas nem questões que contenham mais de uma resposta (mesmo que uma delas esteja correta), emenda ou rasura, ainda que legível.
- CUIDADO COM O CARTÃO-RESPOSTA: não risque, não amasse, não dobre, não suje, pois ele é insubstituível.
- SERÁ ELIMINADO DO CONCURSO PÚBLICO o candidato que, durante a realização das provas:
 - a) retirar-se do recinto da prova, durante sua realização, sem a devida autorização;
 - b) for surpreendido dando e/ou recebendo auxílio para a execução de quaisquer questões/itens das provas;
 - c) usar ou tentar usar meios fraudulentos e/ou ilegais para a sua realização;
 - d) utilizar-se de régua de cálculo, livros, calculadoras e/ou equipamento similar, dicionário, notas e/ou impressos que não forem expressamente permitidos, gravador, receptor e/ ou pagers, e/ou se comunicar com outro candidato;
 - e) faltar com a devida cortesia para com qualquer membro da equipe de aplicação das provas, autoridades presentes e/ou outros candidatos;
 - f) fizer anotação de informações relativas às suas respostas em qualquer outro meio que não o permitido neste Edital;
 - g) descumprir as instruções contidas no Caderno de Provas e no Cartão de Respostas;
 - h) recusar-se a entregar o Caderno de Provas e o Cartão de Respostas ao término do tempo destinado à sua realização;
 - i) ausentar-se da sala, a qualquer tempo, portando o Cartão de Respostas;
 - j) não permitir a coleta de sua assinatura ou não atender ao procedimento de coletar sua impressão digital;
 - k) perturbar, de qualquer modo, a ordem dos trabalhos, incorrendo em comportamento indevido;
 - l) for surpreendido portando ou fazendo uso de aparelho celular e/ ou quaisquer aparelhos eletrônicos durante a realização das provas, mesmo que o aparelho esteja desligado.
- Não será permitida, também, ao candidato, a utilização de telefone celular ao final das provas, enquanto estiver dentro da unidade de aplicação destas.
- Os fiscais não estarão autorizados a emitir opinião nem a prestar esclarecimentos sobre o conteúdo das provas. Cabe, exclusivamente, ao candidato interpretar o enunciado da questão e decidir a resposta.
- Ao terminar a prova, entregue ao fiscal de sala o CADERNO DE PROVA e o CARTÃO-RESPOSTA. Está permitido levar apenas o rascunho do gabarito que se encontra na última página do caderno de prova.
- Após a realização da prova o candidato deverá imediatamente sair das instalações físicas do local da prova, não sendo mais permitido o ingresso aos sanitários.
- Os três últimos candidatos permanecem em sala, pois deverão entregar as provas simultaneamente.
- Se do exame de recursos resultar anulação de item integrante de prova, a pontuação correspondente a esse item será atribuída a todos os candidatos, independentemente de terem recorrido.
- O gabarito preliminar da prova estará disponível em 28/01/2018, a partir das 17h, na página da Prefeitura Municipal de Erval Velho (<http://www.ervalvelho.sc.gov.br>) e na página da Unoesc (<http://unoesc.edu.br/>).

PORTUGUÊS**QUESTÃO 1**

Assinale a alternativa em que a acentuação da palavra está errada:

- (A) Estréia.
- (B) Lógico.
- (C) Bênção.
- (D) Pólen.

QUESTÃO 2

Assinale a alternativa que preenche corretamente os espaços da frase:

_____ Ricardo sempre chega atrasado? Ele não se organiza _____ não quer; não entendo o _____ de tanta reclamação sobre o horário.

- (A) Por que – porquê – porque
- (B) Porque – por que – porque
- (C) Por que – porque – porquê
- (D) Porque – por que – porquê

QUESTÃO 3

Dada a frase: “O navio chegou lentamente”, a palavra sublinhada é um:

- (A) advérbio de intensidade.
- (B) advérbio de tempo.
- (C) advérbio de lugar.
- (D) advérbio de modo.

QUESTÃO 4

“Vigésimo” é um numeral:

- (A) fracionário.
- (B) ordinal.
- (C) multiplicativo.
- (D) cardinal.

QUESTÃO 5

Relacione as colunas classificando o pronome em destaque e em seguida assinale a alternativa com a ordem correta:



- I. Isto não tem a menor importância.
- II. Faltam folhas no meu livro.
- III. Ninguém sabe a resposta.
- IV. Que dia é hoje?

- () Indefinido.
- () Interrogativo.
- () Demonstrativo.
- () Possessivo.

- (A) IV – III – I – II.
- (B) IV – II – I – III.
- (C) III – IV – I – II.
- (D) III – IV – II – I.

MATEMÁTICA**QUESTÃO 6**

Qual é o perímetro das duas figuras juntas a seguir?



Disponível em: <<https://www.todamateria.com.br/perimetro-do-retangulo/>>. Acesso em: 08 nov. 2017.

- (A) 22.
- (B) 39.
- (C) 44.
- (D) 50.

QUESTÃO 7

A fração $\frac{3}{5}$ é proporcional à qual das frações abaixo?

- (A) $\frac{1}{2}$.
 (B) $\frac{6}{10}$.
 (C) $\frac{3}{4}$.
 (D) $\frac{5}{8}$.

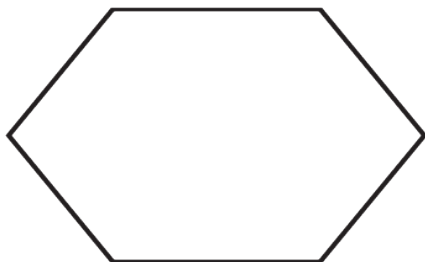
QUESTÃO 8

Determine a soma dos seguintes números: $2,14 + 0,265 + 3 + 12,04$:

- (A) 17,445.
 (B) 6,609.
 (C) 16,86.
 (D) 1,686.

QUESTÃO 9

Polígonos são figuras geométricas compostas por pelo menos três lados. Assim, qual é o nome do polígono a seguir:

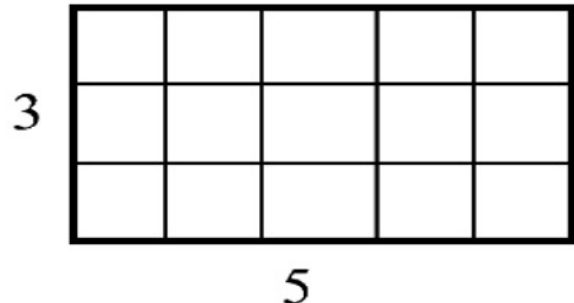


Disponível em: <<https://pt.wiktionary.org/wiki/hex%C3%A1gono>>. Acesso em: 07 nov. 2017.

- (A) Pentágono.
 (B) Hexágono.
 (C) Heptágono.
 (D) Eneágono.

QUESTÃO 10

Determine a área do retângulo a seguir e depois diga se o seu resultado é um número:



Disponível em: <<http://galileo.org/area-is-a-square-deal/>>. Acesso em: 07 nov. 2017.

- (A) Par.
 (B) Ímpar.
 (C) Nulo.
 (D) Primo.

CONHECIMENTOS GERAIS**QUESTÃO 11**

Erval Velho se emancipou do Município de:

- (A) Joaçaba.
 (B) Curitiba.
 (C) Campos Novos.
 (D) Herval d'Oeste.

QUESTÃO 12

Um dos cartões postais da Cidade de Erval Velho é a Igreja Matriz:

- (A) Santa Terezinha.
 (B) São Pedro.
 (C) São Paulo.
 (D) São Sebastião.

QUESTÃO 13

Na bandeira de Erval Velho predomina a cor:

- (A) Verde.
- (B) Vermelha.
- (C) Amarela.
- (D) Azul.

QUESTÃO 14

O último país a conseguir vaga na Copa do Mundo de futebol de 2018 foi:

- (A) Argentina.
- (B) Austrália.
- (C) Peru.
- (D) Itália.

QUESTÃO 15

Segundo o Estatuto do Servidor Público de Erval Velho, é preciso para investidura em cargo público a idade mínima de:

- (A) 18 anos.
- (B) 16 anos.
- (C) 21 anos.
- (D) 14 anos.

CONHECIMENTOS ESPECÍFICOS**QUESTÃO 16**

Ao acionar o ícone do desenho no painel do veículo, o que está indicando?



- (A) Sistema de freio.
- (B) Temperatura do motor.
- (C) Nível do óleo baixo.
- (D) Falta de combustível.

QUESTÃO 17

Os Equipamentos de Proteção Individual (EPIs) são destinados a proteger o indivíduo durante a execução de um serviço. Para a proteção do indivíduo que trabalhe em serviço com risco à face é necessária a utilização dos seguintes equipamentos:

- (A) Capacete, protetor solar e luvas.
- (B) Óculos, máscara antipó e luvas.
- (C) Capacete, sapatos, cordas antiqueda.
- (D) Óculos, protetor facial e máscara de solda.

QUESTÃO 18

De acordo com a Lei n. 9.503, de 23 de setembro de 1997, em seu art. 138, o condutor de veículo destinado à condução de escolares deve satisfazer os seguintes requisitos:

- (A) ter idade superior a 24 anos, ser habilitado na categoria E, não ter cometido nenhuma infração grave ou gravíssima e ser aprovado em curso especializado.
- (B) ter idade superior a 21 anos, ser habilitado na categoria D, não ter cometido nenhuma infração grave ou gravíssima e ser aprovado em curso especializado.
- (C) ter idade superior a 18 anos, ser habilitado na categoria C, não ter cometido nenhuma infração grave ou gravíssima e ser aprovado em curso especializado.
- (D) ter idade superior a 22 anos, ser habilitado na categoria D, não ter cometido nenhuma infração grave ou gravíssima e ser aprovado em curso especializado.

QUESTÃO 19

Ultrapassar pela contramão outro veículo, nas curvas, aclives e declives, sem visibilidade suficiente; nas faixas de pedestre; nas pontes, viadutos ou túneis; parado em fila junto a sinais luminosos, porteiros, cancelas, cruzamentos ou qualquer outro impedimento à livre circulação; onde houver marcação viária longitudinal de divisão de fluxos opostos do tipo linha dupla contínua ou simples contínua amarela. Qual a infração e a penalidade aplicada ao condutor que assim fizer?

- (A) Infração grave e penalidade com multa de dez vezes.
- (B) Infração gravíssima e penalidade com multa de cinco vezes.
- (C) Infração gravíssima e penalidade com multa de duas vezes.
- (D) Infração grave e penalidade com multa de seis vezes.

QUESTÃO 20

Assinale a alternativa que completa corretamente a frase a seguir:

Placas de _____ têm por finalidade informar aos usuários das condições, proibições, obrigações ou restrições no uso das vias, com mensagens imperativas, e seu desrespeito constitui infração.

- (A) regulamentação.
- (B) indicação.
- (C) advertência.
- (D) obra.

QUESTÃO 21

As drogas afetam o raciocínio lógico e o desempenho normal das funções físicas e mentais. Conduzir alcoolizado é infração gravíssima e acarreta várias penalidades previstas no Código de Trânsito Brasileiro. A penalidade imposta para quem dirigir alcoolizado é:

- (A) Multa (cinco vezes) e suspensão do direito de dirigir por 24 meses, sendo considerada infração gravíssima.
- (B) Multa (duas vezes) e advertência, sendo considerada infração média.
- (C) Multa (dez vezes) e suspensão do direito de dirigir por 12 meses, sendo considerada infração gravíssima.
- (D) Multa (quatro vezes) e advertência, sendo considerada infração grave.

QUESTÃO 22

A falta de contato dos pneus com a pista ocorre em razão de a pista estar molhada ou de poças de água, sendo sempre mais fácil de acontecer se os pneus estiverem lisos ou o veículo em velocidade alta. O nome dado ao que acontece em decorrência dessa falta de contato dos pneus com a pista, que faz com que o veículo derrape e o condutor perca o controle do veículo é:

- (A) terraplanagem.
- (B) hidroplanagem.
- (C) derraplanagem.
- (D) carroplanagem.

QUESTÃO 23

O órgão executivo do Sistema Nacional de Trânsito responsável por assuntos relativos a condutor e veículo em cada estado é o:

- (A) DETRAN.
- (B) DNIT.
- (C) CONTRAN.
- (D) DENATRAN.

QUESTÃO 24

É proibido o uso de buzina em situação que não a de simples toque breve como advertência ao pedestre ou a condutores de outros veículos, prolongada e sucessivamente a qualquer pretexto, em locais e horários proibidos pela sinalização e:

- (A) entre as 22 e as 6 horas.
- (B) entre as 20 e as 5 horas.
- (C) entre as 22 e as 7 horas.
- (D) entre as 24 horas e 30 minutos e as 5 horas.

QUESTÃO 25

O efeito do álcool no organismo humano varia de uma pessoa para outra, dependendo da massa corpórea, da quantidade de bebida ingerida, da quantidade de alimentos ingeridos e do tempo transcorrido desde a ingestão. Qual o aparelho utilizado para quantificar a dosagem de álcool contida no sangue?

- (A) Tacógrafo.
- (B) Barômetro.
- (C) Alcoômetro.
- (D) Bafômetro.

QUESTÃO 26

Para se habilitar a conduzir veículo de emergência, o candidato deverá preencher os seguintes requisitos: ser maior de 21 anos, estar habilitado na categoria D ou E, não ter cometido nenhuma infração grave ou gravíssima ou ser reincidente em infrações médias durante os últimos 12 meses e ser aprovado em curso especializado e em curso de treinamento de prática veicular em situação de risco. Além do disposto, para conduzir ambulâncias, o candidato deverá comprovar treinamento especializado e reciclagem em cursos específicos a cada:

- (A) 3 anos.
- (B) 1 ano.
- (C) 7 anos.
- (D) 5 anos.

QUESTÃO 27

Vários são os equipamentos obrigatórios em um veículo, entre os relacionados a seguir, caracteriza-se como obrigatório:

- (A) Apoio para os braços.
- (B) Farol corta neblina.
- (C) Airbag dianteiro e traseiro.
- (D) Encosto de cabeça.

QUESTÃO 28

A placa indicada na figura adverte ao condutor a respeito de:



- (A) Curva sinuosa.
- (B) Pista escorregadia.
- (C) Use freio motor.
- (D) Veículo com defeito.

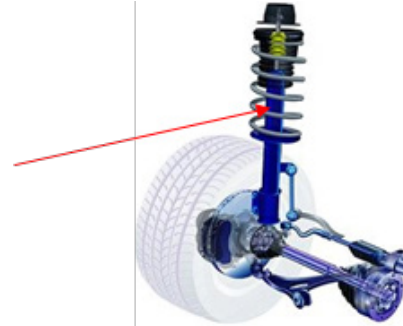
QUESTÃO 29

O sistema de transmissão tem esse nome porque é ele que transmite o movimento do motor para as rodas. O condutor aciona a alavanca do câmbio para selecionar a marcha. O câmbio pode ser:

- (A) manual, semiautomático ou automático.
- (B) semiautomático, generalista ou autônomo.
- (C) autônomo, manual ou generalista.
- (D) automático, hidráulico ou direto.

QUESTÃO 30

O sistema de suspensão do veículo proporciona conforto e segurança ao absorver impactos e compensar as irregularidades, ondulações e buracos da pista. Qual é o componente do sistema indicado no desenho?



- (A) Barra de direção.
- (B) Amortecedor.
- (C) Bucha.
- (D) Braço de suspensão.



CONCURSO PÚBLICO
PREFEITURA MUNICIPAL DE ERVAL VELHO - SC
EDITAL N. 02/2017

RASCUNHO

CONHECIMENTOS GERAIS | LÍNGUA PORTUGUESA

1-	2-	3-	4-	5-
----	----	----	----	----

CONHECIMENTOS GERAIS | MATEMÁTICA

6-	7-	8-	9-	10-
----	----	----	----	-----

CONHECIMENTOS GERAIS

11-	12-	13-	14-	15-
-----	-----	-----	-----	-----

CONHECIMENTOS ESPECÍFICOS

16-	19-	22-	25-	28-
17-	20-	23-	26-	29-
18-	21-	24-	27-	30-