



**CONCURSO PÚBLICO**  
PREFEITURA MUNICIPAL ERVAL VELHO - SC

**EDITAL N. 02/2017**

**CADERNO DE PROVAS**  
**AGENTE DE SERVIÇOS GERAIS I**

---

ASSINATURA DO CANDIDATO

Execução:



**AGENTE DE SERVIÇOS GERAIS I**

**ORIENTAÇÕES GERAIS**

**LEIA COM ATENÇÃO AS ORIENTAÇÕES A SEGUIR:**

- Você recebeu do fiscal de sala o material: caderno de provas e cartão-resposta.
- A prova terá duração de 3 (três) horas, incluindo o tempo de preenchimento do CARTÃO-RESPOSTA.
- O prazo mínimo de permanência em sala é de 1 (uma) hora.
- Autorizado o início da prova, verifique se este caderno contém questões objetivas de conhecimentos específicos, conforme solicitado no ato da inscrição, e questões de conhecimentos gerais, matemática e língua portuguesa. Verifique se o material está em ordem, e se o seu nome, CPF e número de inscrição conferem com os que aparecem no CARTÃO-RESPOSTA. Caso contrário, comunique imediatamente o fiscal.
- Ao terminar a conferência do Caderno de Provas, caso esteja incompleto ou tenha defeito, solicite ao fiscal de sala que o substitua, não cabendo reclamações posteriores nesse sentido. O candidato deverá verificar, ainda, se o cargo em que se inscreveu se encontra devidamente identificado no Caderno de Provas.
- Todas as questões da prova são de múltipla escolha. Para cada uma das questões objetivas, são apresentadas quatro alternativas (A, B, C, D) e somente uma delas corresponde à alternativa correta. Assinale UMA RESPOSTA; a marcação em mais de uma alternativa anula a questão, mesmo que uma das respostas esteja correta.
- No CARTÃO-RESPOSTA, a marcação das letras que correspondem às respostas corretas deve ser realizada com caneta esferográfica de tinta preta ou azul, de forma contínua e densa, cobrindo todo o espaço compreendido pelos círculos. A leitora óptica é sensível a marcas escuras, portanto, preencha os campos de marcação completamente. Exemplo: ●
- O preenchimento do CARTÃO-RESPOSTA é de inteira responsabilidade do candidato. Em hipótese alguma haverá substituição dele por erro do candidato.
- Não serão computadas questões não respondidas nem questões que contenham mais de uma resposta (mesmo que uma delas esteja correta), emenda ou rasura, ainda que legível.
- CUIDADO COM O CARTÃO-RESPOSTA: não risque, não amasse, não dobre, não suje, pois ele é insubstituível.
- SERÁ ELIMINADO DO CONCURSO PÚBLICO o candidato que, durante a realização das provas:
  - a) retirar-se do recinto da prova, durante sua realização, sem a devida autorização;
  - b) for surpreendido dando e/ou recebendo auxílio para a execução de quaisquer questões/itens das provas;
  - c) usar ou tentar usar meios fraudulentos e/ou ilegais para a sua realização;
  - d) utilizar-se de régua de cálculo, livros, calculadoras e/ou equipamento similar, dicionário, notas e/ou impressos que não forem expressamente permitidos, gravador, receptor e/ ou pagers, e/ou se comunicar com outro candidato;
  - e) faltar com a devida cortesia para com qualquer membro da equipe de aplicação das provas, autoridades presentes e/ou outros candidatos;
  - f) fizer anotação de informações relativas às suas respostas em qualquer outro meio que não o permitido neste Edital;
  - g) descumprir as instruções contidas no Caderno de Provas e no Cartão de Respostas;
  - h) recusar-se a entregar o Caderno de Provas e o Cartão de Respostas ao término do tempo destinado à sua realização;
  - i) ausentar-se da sala, a qualquer tempo, portando o Cartão de Respostas;
  - j) não permitir a coleta de sua assinatura ou não atender ao procedimento de coletar sua impressão digital;
  - k) perturbar, de qualquer modo, a ordem dos trabalhos, incorrendo em comportamento indevido;
  - l) for surpreendido portando ou fazendo uso de aparelho celular e/ ou quaisquer aparelhos eletrônicos durante a realização das provas, mesmo que o aparelho esteja desligado.
- Não será permitida, também, ao candidato, a utilização de telefone celular ao final das provas, enquanto estiver dentro da unidade de aplicação destas.
- Os fiscais não estarão autorizados a emitir opinião nem a prestar esclarecimentos sobre o conteúdo das provas. Cabe, exclusivamente, ao candidato interpretar o enunciado da questão e decidir a resposta.
- Ao terminar a prova, entregue ao fiscal de sala o CADERNO DE PROVA e o CARTÃO-RESPOSTA. Está permitido levar apenas o rascunho do gabarito que se encontra na última página do caderno de prova.
- Após a realização da prova o candidato deverá imediatamente sair das instalações físicas do local da prova, não sendo mais permitido o ingresso aos sanitários.
- Os três últimos candidatos permanecem em sala, pois deverão entregar as provas simultaneamente.
- Se do exame de recursos resultar anulação de item integrante de prova, a pontuação correspondente a esse item será atribuída a todos os candidatos, independentemente de terem recorrido.
- O gabarito preliminar da prova estará disponível em 28/01/2018, a partir das 17h, na página da Prefeitura Municipal de Erval Velho (<http://www.ervalvelho.sc.gov.br>) e na página da Unoesc (<http://unoesc.edu.br/>).

**PORTUGUÊS****QUESTÃO 1**

**Assinale a alternativa em que a acentuação da palavra está errada:**

- (A) Estréia.
- (B) Lógico.
- (C) Bênção.
- (D) Pólen.

**QUESTÃO 2**

**Assinale a alternativa que preenche corretamente os espaços da frase:**

\_\_\_\_\_ Ricardo sempre chega atrasado? Ele não se organiza \_\_\_\_\_ não quer; não entendo o \_\_\_\_\_ de tanta reclamação sobre o horário.

- (A) Por que – porquê – porque
- (B) Porque – por que – porque
- (C) Por que – porque – porquê
- (D) Porque – por que – porquê

**QUESTÃO 3**

**Dada a frase: "O navio chegou lentamente", a palavra sublinhada é um:**

- (A) advérbio de intensidade.
- (B) advérbio de tempo.
- (C) advérbio de lugar.
- (D) advérbio de modo.

**QUESTÃO 4**

**"Vigésimo" é um numeral:**

- (A) fracionário.
- (B) ordinal.
- (C) multiplicativo.
- (D) cardinal.

**QUESTÃO 5**

**Relacione as colunas classificando o pronome em destaque e em seguida assinale a alternativa com a ordem correta:**

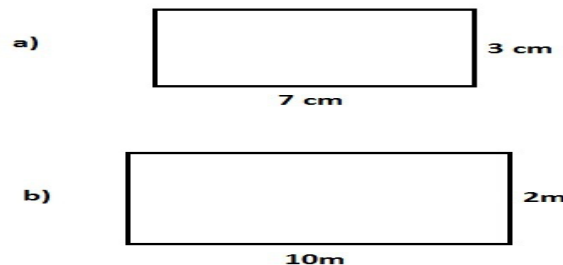
- I. Isto não tem a menor importância.
- II. Faltam folhas no meu livro.
- III. Ninguém sabe a resposta.
- IV. Que dia é hoje?

- ( ) Indefinido.
- ( ) Interrogativo.
- ( ) Demonstrativo.
- ( ) Possessivo.

- (A) IV – III – I – II.
- (B) IV – II – I – III.
- (C) III – IV – I – II.
- (D) III – IV – II – I.

**MATEMÁTICA****QUESTÃO 6**

**Qual é o perímetro das duas figuras juntas a seguir?**



Disponível em: <<https://www.todamateria.com.br/perimetro-do-retangulo/>>. Acesso em: 08 nov. 2017.

- (A) 22.
- (B) 39.
- (C) 44.
- (D) 50.

**QUESTÃO 7**

A fração  $\frac{3}{5}$  é proporcional à qual das frações abaixo?

- (A)  $\frac{1}{2}$ .  
 (B)  $\frac{6}{10}$ .  
 (C)  $\frac{3}{4}$ .  
 (D)  $\frac{5}{8}$ .

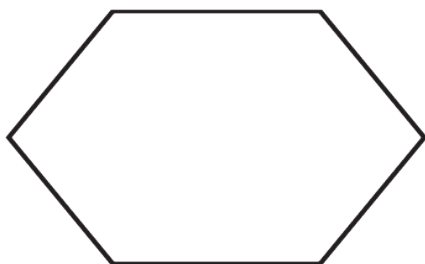
**QUESTÃO 8**

Determine a soma dos seguintes números:  $2,14 + 0,265 + 3 + 12,04$ :

- (A) 17,445.  
 (B) 6,609.  
 (C) 16,86.  
 (D) 1,686.

**QUESTÃO 9**

Polígonos são figuras geométricas compostas por pelo menos três lados. Assim, qual é o nome do polígono a seguir:

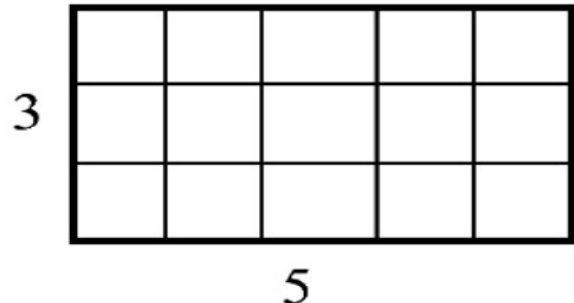


Disponível em: <<https://pt.wiktionary.org/wiki/hex%C3%A1gono>>. Acesso em: 07 nov. 2017.

- (A) Pentágono.  
 (B) Hexágono.  
 (C) Heptágono.  
 (D) Eneágono.

**QUESTÃO 10**

Determine a área do retângulo a seguir e depois diga se o seu resultado é um número:



Disponível em: <<http://galileo.org/area-is-a-square-deal/>>. Acesso em: 07 nov. 2017.

- (A) Par.  
 (B) Ímpar.  
 (C) Nulo.  
 (D) Primo.

**CONHECIMENTOS GERAIS****QUESTÃO 11**

Erval Velho se emancipou do Município de:

- (A) Joaçaba.  
 (B) Curitiba.  
 (C) Campos Novos.  
 (D) Herval d'Oeste.

**QUESTÃO 12**

Um dos cartões postais da Cidade de Erval Velho é a Igreja Matriz:

- (A) Santa Terezinha.  
 (B) São Pedro.  
 (C) São Paulo.  
 (D) São Sebastião.

**QUESTÃO 13**

**Na bandeira de Erval Velho predomina a cor:**

- (A) Verde.
- (B) Vermelha.
- (C) Amarela.
- (D) Azul.

**QUESTÃO 14**

**O último país a conseguir vaga na Copa do Mundo de futebol de 2018 foi:**

- (A) Argentina.
- (B) Austrália.
- (C) Peru.
- (D) Itália.

**QUESTÃO 15**

**Segundo o Estatuto do Servidor Público de Erval Velho, é preciso para investidura em cargo público a idade mínima de:**

- (A) 18 anos.
- (B) 16 anos.
- (C) 21 anos.
- (D) 14 anos.

## CONHECIMENTOS ESPECÍFICOS

### QUESTÃO 16

Segundo a NR 18 do Ministério do Trabalho e Emprego (2015), Equipamento de Proteção Individual (EPI) é todo dispositivo ou produto de uso individual utilizado pelo trabalhador, destinado à proteção de riscos suscetíveis de ameaçar a segurança e a saúde no trabalho. Os equipamentos obrigatórios que o trabalhador deve usar ao estar executando serviços em altura são:

- (A) Cinturão de segurança com alavanca e cinturão de segurança com guincho.
- (B) Cinturão de segurança com dispositivo trava-queda e cinturão de segurança com talabarte.
- (C) Cinturão de segurança com dispositivo trava-queda e cinturão de segurança com guincho.
- (D) Cinturão de segurança com alavanca e cinturão de segurança com talabarte.

### QUESTÃO 17

A coleta de lixo é um processo utilizado pela municipalidade de forma a deixar as vias, os locais públicos e as residências limpos. A coleta seletiva busca a separação dos resíduos por classe, destinação e se há possibilidade de reciclagem. Utilizam-se recipientes com cores diferentes para a coleta seletiva em vias e empresas. Referente a isso, as cores que representam a coleta do respectivo resíduo são:

- (A) Verde (papel), azul (vidro), marrom (plástico), vermelho (orgânico), preto (metal), amarelo (perigoso), laranja (madeira), roxo (radioativo) e branco (ambulatório ou saúde).
- (B) Azul (papel), verde (vidro), vermelho (plástico), marrom (orgânico), amarelo (metal), preto (madeira), laranja (perigoso), branco (ambulatório ou saúde) e roxo (radioativo).
- (C) Verde (papel), azul (plástico), marrom (vidro), vermelho (radioativo), preto (metal), amarelo (perigoso), laranja (madeira), roxo (orgânico) e branco (ambulatório ou saúde).
- (D) Azul (plástico), verde (vidro), marrom (papel), vermelho (orgânico), preto (madeira), amarelo (radioativo), laranja (metal), roxo (perigoso) e branco (ambulatório ou saúde).

### QUESTÃO 18

Ao se depararem com alguns acidentes, de trabalho ou não, muitas pessoas não sabem a quem recorrer para solicitar ajuda. Para isso, muitos órgãos públicos fazem constantemente a divulgação de números de telefones de emergência. Assinale a alternativa que informa os números de emergência referentes à Polícia Militar, Defesa Civil, Bombeiros e SAMU, respectivamente:

- (A) 199 – 192 – 190 – 193.
- (B) 190 – 199 – 193 – 192.
- (C) 192 – 193 – 199 – 190.
- (D) 193 – 190 – 192 – 199.

### QUESTÃO 19

Ao executar um serviço de conservação das praças centrais de um determinado município, um funcionário identificou a rede elétrica apresentando problema; ao tentar arrumar, levou um choque. Ele deveria ter solicitado ajuda ligando para:

- (A) a Polícia Militar.
- (B) o Prefeito municipal.
- (C) o Corpo de Bombeiros.
- (D) a Defesa Civil.

### QUESTÃO 20

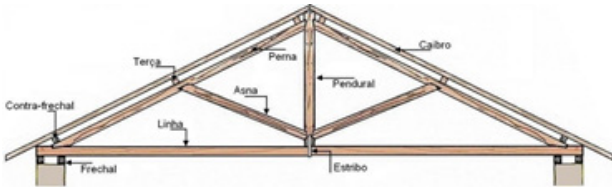
Para a conservação de via rurais, principalmente para a correção da plataforma e abertura das valas de drenagem, utiliza-se o equipamento indicado na fotografia. O nome dado a esse equipamento é:



- (A) Vibroacabadora.
- (B) Trator de esteira.
- (C) Bob Cat.
- (D) Motoniveladora.

**QUESTÃO 21**

Para a execução de uma cobertura com telha cerâmica, é necessária a realização de uma estrutura de cobertura que suporte o peso das telhas. Para isso, executam-se estruturas como a apresentada no desenho. Para essa estrutura é dado o nome de:



- (A) Tesoura.
- (B) Pontaletada.
- (C) Cinta de baldrame.
- (D) Vigas.

**QUESTÃO 22**

A alvenaria é um elemento construtivo com a finalidade de fechamento, é composto por blocos (cerâmicos ou de concreto) e uma camada de argamassa entre cada um. Os blocos podem ser assentados de duas formas, em que a espessura pode ficar maior ou menor. Para o assentamento do bloco considerando a maior dimensão, ou seja, deitado, o processo é chamado de:

- (A) A chato.
- (B) A cutelo.
- (C) Em pé.
- (D) Na horizontal.

**QUESTÃO 23**

Com o intuito de proteger a alvenaria, são executadas camadas de revestimento. A primeira das camadas, com função de aderência entre a alvenaria e a camada de revestimento, é chamada de chapisco, com característica fluida e composto pelos seguintes materiais:

- (A) cal, brita e água.
- (B) cimento, pó de pedra e água.
- (C) calfinex, pedrisco e água.
- (D) gesso, areia fina e água.

**QUESTÃO 24**

Assinale a alternativa que corresponde à descrição a seguir: escavação longitudinal, executada em solo ou rocha, com profundidade, largura e declividade definidas em projeto, com a finalidade de receber e conduzir águas ou para a instalação de rede enterrada de água, esgoto ou drenagem:

- (A) Poço.
- (B) Trincheira.
- (C) Estrada.
- (D) Vala.

**QUESTÃO 25**

Na fotografia, o dispositivo de drenagem destinado a captar a água do pavimento e conduzir ao deságue é:



- (A) Boca de lobo.
- (B) Descida de água.
- (C) Sarjeta.
- (D) Meio-fio.

**QUESTÃO 26**

A limpeza de vias públicas pavimentadas deve acontecer periodicamente de forma a mantê-las em estado de conservação adequado. Para a execução desse serviço, deve-se utilizar:

- (A) roçadeira, concreto e rolo de espuma.
- (B) vassoura, rolo de espuma e aspirador.
- (C) roçadeira, carrinho de coleta e aspirador.
- (D) vassoura, carrinho de coleta e, quando necessário enxada.

**QUESTÃO 27**

**Para uma instituição especializada como a Organização Mundial da Saúde (OMS), saneamento é o controle de todos os fatores do meio físico onde o homem habita, que exercem ou podem exercer efeitos prejudiciais ao seu bem-estar físico, mental ou social. Entre os serviços listados a seguir, qual se enquadra em saneamento?**

- (A) Pintura de edificações.
- (B) Demolição de edificações.
- (C) Coleta de esgoto.
- (D) Pintura de vias.

**QUESTÃO 28**

**Os Equipamentos de Proteção Individual (EPIs) são destinados a proteger o indivíduo durante a execução de um serviço. Para a proteção do indivíduo que trabalhe em serviço com risco à face é necessária a utilização dos seguintes equipamentos:**

- (A) Capacete, protetor solar e luvas.
- (B) Máscara, sapato e luvas.
- (C) Protetor auricular, óculos de sol e capacete.
- (D) Óculos, protetor facial e máscara de solda.

**QUESTÃO 29**

**Os principais serviços de limpeza de logradouros públicos, com o objetivo de evitar problemas sanitários, interferências perigosas no trânsito, riscos de acidentes, prejuízos ao turismo e inundações das ruas contemplam:**

- (A) Limpeza de sarjetas, bueiros, feiras e praças, capina e pintura de guias.
- (B) Limpeza de bueiros, praças, janelas, paredes de estabelecimentos e recolocação de postes de energia.
- (C) Limpeza de sarjetas, feiras, capina e plantio de árvores de grande porte para sombra.
- (D) Limpeza de bueiros, capina, pintura de meio-fio e reposicionamento de placas e iluminação.

**QUESTÃO 30**

**Ao executar um determinado serviço, um trabalhador cortou-se com um pedaço de ferro e o sangramento foi abundante. Qual cuidado é indicado?**

- (A) Comprimir o local do sangramento com compressas de pano.
- (B) Colocar água oxigenada para conter o sangramento.
- (C) Colocar o membro cortado na posição inferior, de forma que o sangue seja contido.
- (D) Fazer torniquete.





**CONCURSO PÚBLICO**  
PREFEITURA MUNICIPAL DE ERVAL VELHO - SC  
**EDITAL N. 02/2017**

**RASCUNHO**

**CONHECIMENTOS GERAIS | LÍNGUA PORTUGUESA**

|    |    |    |    |    |
|----|----|----|----|----|
| 1- | 2- | 3- | 4- | 5- |
|----|----|----|----|----|

**CONHECIMENTOS GERAIS | MATEMÁTICA**

|    |    |    |    |     |
|----|----|----|----|-----|
| 6- | 7- | 8- | 9- | 10- |
|----|----|----|----|-----|

**CONHECIMENTOS GERAIS**

|     |     |     |     |     |
|-----|-----|-----|-----|-----|
| 11- | 12- | 13- | 14- | 15- |
|-----|-----|-----|-----|-----|

**CONHECIMENTOS ESPECÍFICOS**

|     |     |     |     |     |
|-----|-----|-----|-----|-----|
| 16- | 19- | 22- | 25- | 28- |
| 17- | 20- | 23- | 26- | 29- |
| 18- | 21- | 24- | 27- | 30- |